

교사용
특별부록

초등사회

선생님 자료 창고

- **꼭지시험** 2
교과서 주제별 주요 개념을 확인할 수 있는 문제입니다. 진도 교재의 교과서 핵심 강의를 학습하기 전에 지난 시간에 배운 내용을 확인하 실 때 사용하세요.
- **유형문제** 15
시험에 자주 출제되는 유형 문제로 구성하였습니다. 시험대비 교재의 '단원평가' 풀이 후 더 많은 문제가 필요한 경우 사용하세요.
- **실전 서술형·논술형 문제** 28
출제율이 높은 서술형·논술형 문제를 집중적으로 풀어 볼 수 있는 코너입니다. 학교 시험에서 서술형·논술형 문제의 출제 비중이 높은 학생들에게 추가 문제로 사용하세요.
- **중간·기말 학력평가** 36
학력평가 예상 문제를 '중간 범위, 중간 이후 범위, 전 범위'로 구성하였습니다. 시험대비 교재의 '중간·기말 대비 단원별 학력평가' 풀이 후 더 많은 문제가 필요한 경우 사용하세요.
- **정답과 해설** 45

교사용 자료 온라인 제공

❖ 강의의 편의성을 위해 교사용 특별부록 자료를 온라인에서도 제공합니다.

① 교사용 교재에 수록한 「선생님 자료 창고 PDF」 파일

② 교사용 CD에 수록한 「단원평가/중간·기말평가」 한글 파일

교사용 자료는 비상교육 홈페이지(www.visang.com/book → 학원선생님 → 초등자료실 → 사회)에서 내려받으실 수 있습니다.

5-1

1 은/는 우리가 대를 이어 살아가는 삶의 터전으로, 소중하게 여기고 사랑해야 합니다.

1

2 다음 내용 중 알맞은 말에 ○표 하시오.

2

우리 국토는 남북의 길이는 길고 동서의 길이는 짧으며, 육지가 바다 쪽으로 (나와 , 들어와) 있습니다.

3 우리나라는 아시아 대륙의 쪽에 있고, 주변에는 중국, 일본, 러시아 등이 있습니다.

3

4 경도는 을/를 기준으로 동쪽은 동경, 서쪽은 서경이라고 하고, 각각 180°로 나누어 동쪽과 서쪽의 위치를 나타냅니다.

4

5 우리나라는 33°에서 43° 사이, 124°에서 132° 사이에 있습니다.

5 ㉠:
㉡:

6 한 나라의 힘이 미치는 범위를 말하며, 영토, 영해, 영공으로 이루어지는 것을 무엇이라고 합니까?

6

7 다음 내용 중 알맞은 말에 ○표 하시오.

7

우리나라의 (영공 , 영토)은/는 한반도와 부속 도서로 이루어져 있습니다.

8 우리나라의 영해는 영토의 끝이 되는 선을 기준으로 하여 기선으로부터 해리까지를 말합니다.

8

9 은/는 우리나라 가장 동쪽 끝에 있는 섬으로, 2개의 큰 섬과 89개의 작은 섬으로 이루어져 있습니다.

9

10 휴전선에서 남북으로 각각 2km씩의 구간에 설정된 지대로, 남북한 모두 군대나 무기, 군사 시설을 설치하지 않기로 약속한 곳은 어디입니까?

10

- 1 산, 강, 평야, 해안 등과 같은 땅의 모양을 무엇이라고 합니까?
- 2 우리 국토는 약 70%가 (으)로 이루어져 있으며, 북쪽과 동쪽에는 높고 험한 산이 많습니다.
- 3 우리나라를 서쪽에서 동쪽으로 자른 단면도를 보면, 우리나라의 동쪽은 높고 서쪽은 낮은 의 지형이라는 것을 알 수 있습니다.
- 4 서해안과 ㉠ 은/는 해안선이 복잡하고 섬이 많으며, ㉡ 은/는 해안선이 단조롭고 해수욕장이 발달하였습니다.
- 5 은/는 화산 활동으로 만들어진 섬으로, 용암 동굴인 만장굴을 비롯하여 한라산, 성산 일출봉 등이 있습니다.
- 6 다음 내용이 맞으면 ○표, 틀리면 ×표 하시오.

우리나라는 1월에는 북쪽이 남쪽보다 춥고, 8월에는 남쪽이 북쪽보다 덥습니다.
- 7 강릉은 차가운 북서풍을 막아 주는 ㉠ 와/과 수심이 깊은 ㉡ 의 영향으로, 비슷한 위도에 있는 인천이나 춘천보다 겨울에 덜 춥습니다.
- 8 우리나라는 겨울에 북쪽의 에서 불어오는 차가운 바람의 영향으로 기온이 낮아서 춥고 눈이 많이 내립니다.
- 9 다음 내용 중 알맞은 말에 ○표 하시오.

우리나라는 ㉠ (북쪽 , 남쪽)에서 ㉡ (북쪽 , 남쪽)으로 갈수록 강수량이 많아집니다.
- 10 은/는 겨울에 눈이 많이 내리는 울릉도에서 눈이 집안으로 들어오는 것을 막기 위하여 지붕의 처마 끝에서 땅에 닿는 부분까지 둘러싼 외벽으로, 울릉도의 전통 가옥에서 볼 수 있습니다.

- 1
- 2
- 3
- 4 ㉠:
㉡:
- 5
- 6
- 7 ㉠:
㉡:
- 8
- 9 ㉠:
㉡:
- 10

1 일정한 지역에 사는 사람의 수를 무엇이라고 합니까?

1

2 우리나라는 1960년대 이후 산업이 발달하고 이/가 많아지면서 인구 분포가 크게 변화하였습니다.

2

3 (이)란 인구가 어디에 얼마나 모여 있고 흩어져 있는가를 말합니다.

3

4 다음 내용 중 알맞은 말에 ○표 하시오.

4

산업이 발달하기 이전에는 남서쪽의 (산지 , 평야) 지역에 인구가 많았습니다.

5 서울특별시와 인천광역시, 경기도 일대의 에는 우리나라 인구의 절반 정도가 살고 있습니다.

5

6 도시에는 (으)로 인해 주택 부족, 교통 혼잡, 환경 오염 등의 문제가 발생합니다.

6

7 다음 내용이 맞으면 ○표, 틀리면 ×표 하시오.

7

지역마다 인구 분포가 다른 까닭은 지형이 다르고, 교통과 산업의 발달 정도가 다르기 때문입니다.

8 통학, 통근 등과 같이 사람들이 일상생활을 할 때 활동하는 범위를 무엇이라고 합니까?

8

9 도로, 철도, 항구, 공항 등을 나타낸 지도를 (이)라고 합니다.

9

10 인터넷을 이용하여 직장에 출근하지 않고도 집에서 일을 하는 것을 무엇이라고 합니까?

10

- 1 인간이나 동식물에게 영향을 미치는 자연적·사회적 조건을 무엇이라고 합니까?
- 2 도시에서 볼 수 있는 에는 산, 강, 하늘, 공기 등이 있습니다.
- 3 다음 내용 중 알맞은 말에 ○표 하시오.

어촌에서 볼 수 있는 (섬 , 방파제)은/는 인간이 만든 환경에 해당합니다.
- 4 중국이나 몽골 등에 위치한 사막과 황토 지대의 작은 모래나 흙, 먼지가 바람을 타고 하늘 높이 올라가 멀리까지 이동하는 현상을 무엇이라고 합니까?
- 5 다음 내용 중 알맞은 말에 ○표 하시오.

황사를 통하여 다양한 환경이 서로 영향을 주고받는 범위가 매우 (넓다 , 좁다)는 것을 알 수 있습니다.
- 6 다음 내용 중 알맞은 말에 ○표 하시오.

(태화강 , 보르네오 섬)의 사례를 통해 한번 오염된 자연환경은 되돌리기 힘들다는 것을 알 수 있습니다.
- 7 우리 조상들은 더운 여름을 시원하게 나기 위하여 한옥에 방과 방 사이의 큰 마루인 을/를 만들었습니다.
- 8 은/는 강의 상류에 독을 만들어 물을 저장해 놓는 시설로, 홍수와 가뭄을 조절하기 위해서 만들었습니다.
- 9 간척 사업처럼 인간이 환경을 적극적으로 개발하는 일은 무엇이 발달하면서 가능해졌습니까?
- 10 금강 하굿둑의 사례는 인간과 환경이 서로 영향을 주고받으며 을/를 유지하는 것이 중요함을 보여 줍니다.

1
2
3
4
5
6
7
8
9
10

1 다음 내용 중 알맞은 말에 ○표 하시오.

홍수가 나서 집과 농경지가 물에 잠긴 곳에서는 (댐 , 도로)
이/가 필요합니다.

1

2 다음 내용 중 알맞은 말에 ○표 하시오.

고속 국도, 다리, 공항 등과 같은 시설들은 (개인 , 국가)이/가
만듭니다.

2

3 한정된 자원을 합리적이고 균형 있게 개발하여 사람들이 풍요롭
고 편리한 생활을 할 수 있도록 을/를 하고 있습니다.

3

4 국토를 개발하는 과정에서 이/가 파괴되는 문제점이
생기기도 합니다.

4

5 다음 내용 중 알맞은 말에 ○표 하시오.

터널을 만들면 자연환경과 생물들의 삶의 터전이 파괴되기 때문
에 터널 공사를 (찬성 , 반대)합니다.

5

6 지역 주민들과의 갈등을 해결하기 위해 환경 보전 지역으로 지정
되어서 생기는 주민들의 피해는 에서 보상해 줍니다.

6

7 국토 개발은 자연환경과 그 속에서 살아가는 생물들을 고려하
여 적으로 이루어져야 합니다.

7

8 야생 동물들을 보호하려고 인공적으로 만든 길을 무엇이라고
합니까?

8

9 종이, 페트병, 캔 등과 같이 재활용할 수 있는 물건은
합니다.

9

10 친환경적인 태도를 기르기 위해서 (일회용품 , 재활용품)의
사용을 줄이려고 노력해야 합니다.

10

- 1 자원을 무분별하게 사용하면 자원이 되어 미래 세대의 삶은 어려워질 것입니다.
- 2 세계 천연자원의 사용 가능한 기간이 2013년 기준으로 석유는 53.3년, 천연가스는 55.1년, 석탄은 113년으로 우리가 쓸 수 있는 자원은 되어 있습니다.
- 3 다음 내용 중 알맞은 말에 ○표 하시오.
미국, 오스트레일리아와 같은 일부 나라에서는 한정된 자원으로 생산된 에너지를 (많이 , 적게) 사용하고 있습니다.
- 4 사람들은 자원을 공평하게 나누어 쓰면서 우리의 후손들도 자원을 사용할 수 있도록 하는 발전이 필요합니다.
- 5 지속 가능한 발전을 위해서는 전 세계적인 와/과 실천이 필요합니다.
- 6 각 가정마다 태양광 시설을 설치하여 전기 요금이 줄어든 광주광역시 마을은 어디입니까?
- 7 태양광 에너지를 적극적으로 활용하고 있어 ‘태양의 도시’라고 불리는 독일의 도시는 어디입니까?
- 8 다음 내용 중 알맞은 말에 ○표 하시오.
자원 고갈의 위험이 없는 신재생 에너지는 (자연 , 화석 연료) 을/를 이용하여 에너지를 만듭니다.
- 9 발전은 태양열을 이용하지만, 시설을 설치하는 데 비용이 많이 드는 단점이 있는 신재생 에너지입니다.
- 10 독일인 과학자 쉐플러는 자신이 발명한 을/를 모든 사람이 무료로 사용할 수 있도록 특허를 내지 않았습니다.

- 1
- 2
- 3
- 4
- 5
- 6
- 7
- 8
- 9
- 10

1 사람들에게 필요한 것을 생산하고 소비하는 것과 관련된 모든 활동을 무엇이라고 합니까?

1

2 다음 내용 중 알맞은 말에 ○표 하시오.

2

(개인 , 기업)과 관련된 경제 활동에는 물건 사기, 은행에 돈 저축하기, 식당에서 음식 사 먹기 등이 있습니다.

3 사람들은 자신의 능력과 적성에 따라 자유롭게 을/를 선택합니다.

3

4 사람들은 자신이 벌어들인 을/를 자유롭게 소비하고 저축합니다.

4

5 국가나 다른 사람으로부터 강요나 간섭을 받지 않고 자신의 의견에 따라 자유롭게 경제 활동을 하는 것을 무엇이라고 합니까?

5

6 우리 경제의 특징 중 자신이 원하는 바를 얻기 위해 서로 겨루는 것을 무엇이라고 합니까?

6

7 기업들은 많은 물건을 팔아 더 많은 을/를 얻기 위하여 여러 가지 방법으로 경쟁합니다.

7

8 다음 내용 중 알맞은 말에 ○표 하시오.

8

기업들은 물건을 더 많이 팔기 위해 물건의 가격을 (낮춥니다 , 높입니다).

9 기업 간의 경쟁은 들에게 다양하고 질 좋은 물건을 싸게 살 수 있는 기회를 제공해 줍니다.

9

10 더 나은 경제 활동을 하기 위해 경제 활동의 기준 마련, 공정 거래 심의 등의 일을 하는 곳은 어디입니까?

10

- 1 옛날에는 초가집이나 기와집이 많았으나 오늘날에는 단독 주택, 연립 주택, 이/가 많아졌습니다.
- 2 다음 내용 중 알맞은 말에 ○표 하시오.
오늘날 교통의 모습을 옛날과 비교해 보면 자동차 수가 많이 (늘어났고 , 줄어들었고), 도로가 넓어졌습니다.
- 3 오늘날에는 전화기를 들고 다니며 어디에서나 통화할 수 있을 뿐만 아니라 점점 기능이 발달하여 와/과 같은 기능이 있는 전화기를 사용하게 되었습니다.
- 4 국내 총생산이란 일정 기간에 한 나라 안에서 생산된 재화와 의 양을 돈으로 계산하여 합한 것을 말합니다.
- 5 일정 기간에 한 나라의 국민이 벌어들인 소득을 그 나라의 인구로 나눈 것을 무엇이라고 합니까?
- 6 경제가 성장하면서 국민들의 이/가 늘어나 자동차 수와 휴대 전화 가입자 수가 크게 증가하였습니다.
- 7 급속한 경제 성장으로 국민들의 영양 상태가 크게 개선되었고, 의료 기술이 발달하면서 한국인의 이/가 늘어났습니다.
- 8 다른 나라와의 거래에 필요한 외환이 부족하여 국가 경제가 어려움을 겪는 것을 무엇이라고 합니까?
- 9 다음 내용 중 알맞은 말에 ○표 하시오.
옛날에는 노동력이 풍부하고 기술과 자본은 부족했기 때문에 옷이나 신발과 같은 제품을 생산하는 (경공업 , 중화학 공업) 이 발달하였습니다.
- 10 2000년대 이후에는 서비스업과 정보 기술, 생명 기술, 우주 기술 등 와/과 관련된 산업이 발달하고 있습니다.

- 1
- 2
- 3
- 4
- 5
- 6
- 7
- 8
- 9
- 10

1 다음 내용 중 알맞은 말에 ○표 하시오.

우리나라는 (배 , 자동차) 만드는 기술이 세계적으로 우수하고, 조선 산업이 발전하였습니다.

2 조선 산업의 발전을 위하여 기업가는 을/를 세우고 배를 수출하기 위해 노력하였습니다.

3 우리나라 조선 산업의 발전을 위하여 항구를 정비하고, 조선 산업을 적극 지원한 곳은 어디입니까?

4 우리 경제의 성장을 위하여 근로자는 질 좋은 제품을 만들고 새로운 을/를 개발하기 위하여 연구하였습니다.

5 과거에 광부, 간호사, 건설 근로자 등은 독일과 서남아시아 지역에서 일하며 많은 을/를 벌어들였습니다.

6 다음 내용 중 알맞은 말에 ○표 하시오.

기업가는 우리 경제의 성장을 위하여 (학교 , 회사)를 세워 다양한 산업을 발전시켰습니다.

7 기업가는 기업을 발전시켜 새로운 을/를 만들고 근로자의 소득을 높였으며, 우리나라 경제가 성장하는 데 중요한 역할을 하였습니다.

8 우리 경제의 성장을 위하여 정부가 세운 중요한 시설에는 어떤 것들이 있습니까?

9 정부는 을/를 늘리기 위하여 다른 나라와 관계를 맺고 우리나라의 기술과 제품을 홍보하였습니다.

10 의 건설로 서울에서 부산까지 5시간 정도밖에 걸리지 않게 되어 하루 생활권 시대가 열렸습니다.

1

2

3

4

5

6

7

8

9

10

1 다음 내용 중 알맞은 말에 ○표 하시오.

나라마다 자연환경, 자본, 기술, 생산되는 것 등이 서로 (같습니다 , 다릅니다).

2 나라 간에 서로 필요한 것을 사고파는 활동을 무엇이라고 합니까?

3 생산을 하는 데 필요한 원료, 기계, 시설 및 이것을 마련하는데 드는 돈을 (이)라고 합니다.

4 각 나라는 무역을 하면서 서로 의존하고 합니다.

5 다음 내용 중 알맞은 말에 ○표 하시오.

우리나라는 (1980년 , 2015년)에 반도체, 자동차, 선박 해양 구조물 및 부품 등을 주로 수출하였습니다.

6 다음 내용 중 알맞은 말에 ○표 하시오.

우리나라는 자원이 부족하여 (원유 , 선박), 천연가스 등을 주로 수입합니다.

7 우리나라의 무역은 자원이나 을/를 수입하고, 그것을 가공하여 제품을 만들어 외국에 수출하는 것이 특징입니다.

8 다음 내용 중 알맞은 말에 ○표 하시오.

우리나라는 전체 무역액에서 중국, 미국, 일본 등 몇 나라가 차지하는 비율이 (높아서 , 낮아서) 주요 무역 상대국의 영향을 많이 받습니다.

9 각 나라는 환경 오염 물질을 발생시키는 제품의 수입을 제한하고, 제품을 개발하기 위해 노력하고 있습니다.

10 기술 개발, 품질 개선, 제품 홍보 등의 다양한 노력을 하면 우리 제품의 이/가 향상되어 수출이 증가할 것입니다.

1

2

3

4

5

6

7

8

9

10

1 (으)로 사람들은 생활이 편리해졌고 더 잘살게 되었습니다.

1

2 경제적으로 부유한 사람과 가난한 사람의 소득이나 자산의 차이를 무엇이라고 합니까?

2

3 다음 내용 중 알맞은 말에 ○표 하시오.

3

경제적 수준이나 사회·문화적 수준이 중간 정도 되는 집단을 (중산층, 저소득층)이라고 합니다.

4 경제 성장 과정에서 많은 자원을 소비하여 자원이 부족한 상태를 무엇이라고 합니까?

4

5 에너지를 절약하기 위해 일반 건물의 여름철 실내 온도를 ℃ 이상으로 유지할 것을 권장하고 있습니다.

5

6 근로자와 기업가의 이해관계가 맞지 않아 서로 대립하는 것을 (이)라고 합니다.

6

7 정부의 재정으로 이용권을 발행하여 저소득층을 지원하는 제도를 무엇이라고 합니까?

7

8 에너지를 절약하기 위해 3월 마지막 주 토요일 저녁 8시 30분 부터 1시간 동안 '' 행사가 진행됩니다.

8

9 옛날 우리 조상들은 자연의 이치를 거슬러 을/를 훼손하거나 오염하는 것을 잘못된 일로 여겼습니다.

9

10 노사 갈등을 잘 해결하기 위하여 근로자 단체, 기업가 단체, (으)로 구성된 위원회를 만들어 경제가 균형 있게 발전 하도록 노력하고 있습니다.

10

- 1 국민이 국가 기관에 대하여 어떤 사항에 관한 의견이나 희망을 문서로 제출하는 것을 무엇이라고 합니까?
- 2 은/는 국가나 지방 자치 단체가 중요한 사항을 결정할 때 국민이나 전문가의 의견을 듣는 공개 회의입니다.
- 3 공동체의 문제를 해결하는 가장 좋은 방법은 문제를 해결하는데 참여하여 자신의 의견을 제시하고, 와/과 타협으로 의견 차이를 좁혀 가는 것입니다.
- 4 다음 내용 중 알맞은 말에 ○표 하시오.
(4.19 혁명 , 6월 민주 항쟁)은 부정 선거를 하여 정권을 계속 유지하려 했던 당시 정치인들의 행동이 잘못되었음을 말하려고 학생들과 시민들이 일으킨 사건입니다.
- 5 같은 정치적 의견을 가진 사람들이 모인 단체를 무엇이라고 합니까?
- 6 공동체의 문제를 해결하기 위하여 대표를 뽑는 선거나 사람들 간에 의견 차이가 있는 문제를 해결하기 위한 은/는 남북의 분단으로 헤어져 만나지 못하게 된 가족들을 말합니다.
- 8 북한을 떠나 남한으로 들어온 사람들로, ‘또 다른 이산가족’이라고 불리는 사람들은 누구입니까?
- 9 다음 내용 중 알맞은 말에 ○표 하시오.
남한의 표준어인 ‘도시락’과 같은 뜻을 가진 북한의 문화어는 ‘괍밥 , 얼력밥’입니다.
- 10 북한 이탈 주민과 더불어 살아가기 위해서는 북한 이탈 주민에 대한 을/를 버리고 존중과 배려의 자세로 대해야 합니다.

- 1
- 2
- 3
- 4
- 5
- 6
- 7
- 8
- 9
- 10

1 사람들은 다른 매체보다 사용하기 편리하고, 가지고 다니면서 사용할 수 있기 때문에 을/를 더 많이 사용합니다.

1

2 새로운 매체의 등장으로 누구나 새로운 (이)나 문화를 만들어 낼 수 있습니다.

2

3 다음 내용 중 알맞은 말에 ○표 하시오.

3

먼 곳에 있는 사람과도 쉽게 정보를 주고받을 수 있는 점은 새로운 매체의 (긍정적 , 부정적)인 면입니다.

4 오랜 세월에 걸쳐 이어져 내려와 우리의 고유한 가치로 인정받은 것을 무엇이라고 합니까?

4

5 다음 내용 중 알맞은 말에 ○표 하시오.

5

외국인들은 (국악 체험 , 발레 관람)을 통해 우리나라의 전통 문화를 배울 수 있습니다.

6 한복, 한글 등 우리의 전통문화를 활용하여 상품으로 만드는 산업을 무엇이라고 합니까?

6

7 ‘’은/는 우리의 전통문화인 사물놀이의 리듬을 소재로 하여 주방에서 일어나는 이야기를 재미있게 꾸민 뮤지컬 공연입니다.

7

8 은/는 우리 문화유산에 대한 내용을 영상 콘텐츠로 제작하여 인터넷 등 다양한 매체를 통하여 알리고 있습니다.

8

9 전통문화 콘텐츠를 만드는 과정에서 가장 먼저 해야 할 일은 무엇입니까?

9

10 다음 내용이 맞으면 ○표, 틀리면 ×표 하시오.

10

다른 나라의 문화를 무시하고 우리의 전통문화에만 관심을 가집니다.

유형 ① 우리 국토의 위치

대륙이나 해양 등의 지형을 기준으로 나타내기	아시아 대륙의 동쪽에 위치하고 있음.
위도와 경도를 이용하여 나타내기	북위 33°에서 43° 사이, 동경 124°에서 132° 사이에 있음.
주변 국가들과의 상대적인 관계로 나타내기	동북아시아의 지리적 요충지 및 태평양 시대의 중심 국가임.

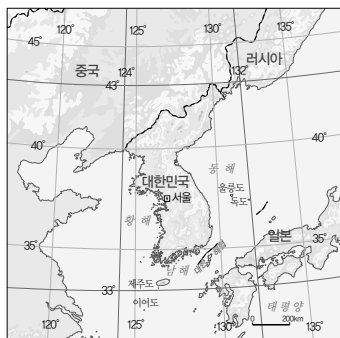
1 다음 **보기**에서 우리나라의 위치에 대한 설명으로 **바른 것**을 모두 골라 **기호**를 쓰시오.

보기

- ㉠ 아시아 대륙의 서쪽에 위치해 있습니다.
㉡ 대륙과 해양으로 진출하기에 유리합니다.
㉢ 삼면이 바다로 둘러싸인 반도 국가입니다.
㉣ 적도를 기준으로 하여 남쪽에 위치합니다.
㉤ 주변에는 미국, 프랑스, 러시아 등이 있습니다.

$$\left(\begin{array}{c} \text{ } \\ \text{ } \end{array} \right)$$

2 다음 지도를 보고, 우리나라의 위치를 바르게
설명한 것을 두 가지 고르시오. (,)




- ① 북위 33° 에서 43° 사이에 있다.
- ② 동경 33° 에서 43° 사이에 있다.
- ③ 북위 43° 에서 124° 사이에 있다.
- ④ 북위 124° 에서 132° 사이에 있다.
- ⑤ 동경 124° 에서 132° 사이에 있다.

유형 2 우리 국토의 영역

영토	<ul style="list-style-type: none"> • 한 나라의 힘이 미치는 땅의 범위 • 한반도와 부속 도서로 이루어져 있음.
영해	<ul style="list-style-type: none"> • 한 나라의 힘이 미치는 바다의 범위로, 기선으로부터 12해리까지를 말함. • 섬이 많은 서해안과 남해안: 가장 바깥에 위치한 섬들을 연결한 선으로부터 12해리까지임. • 섬이 적은 동해안, 울릉도, 독도, 제주도: 썰물일 때의 해안선으로부터 12해리까지임.
영공	우리나라의 영토와 영해의 하늘을 말함.

3 다음 그림에서 영공에 해당하는 것을 찾아 기호를 쓰시오.


$$\left(\begin{array}{c} \text{ } \end{array} \right)$$

4 우리 국토의 영역에 대한 설명으로 바르지 않은 것은 어느 것입니까? ()

- ① 영토는 한 나라의 힘이 미치는 땅의 범위이다.
- ② 우리나라의 영해는 기선으로부터 22해리까지이다.
- ③ 국토의 영역은 한 나라의 힘이 미치는 범위를 말한다.
- ④ 우리나라의 영토는 한반도와 부속 도서로 이루어져 있다.
- ⑤ 우리나라 영해의 기준이 되는 선은 서해안·남해안과 동해안이 각각 다르다.

유형 ① 우리나라 인구 분포의 변화

인구 분포의 변화	<ul style="list-style-type: none"> 산업 발달 이전(1960년): 남서쪽의 평야 지역에 인구가 많았고, 산이 많은 북동쪽의 산지 지역에는 인구가 적었음. 산업 발달 이후(2015년): 산업이 발달한 수도권과 대도시, 남동쪽의 공업 도시로 인구가 집중되었음.
문제점	<ul style="list-style-type: none"> 인구가 집중되는 지역(도시): 주택 부족, 교통 혼잡, 환경 오염 등 인구가 적은 지역(촌락): 일손 부족, 지역 쇠퇴 등
해결 방법	<ul style="list-style-type: none"> 교통 시설을 확충함. 대도시 주변에 신도시를 건설함. 전 국토의 균형적인 발전을 통하여 일부 지역에 집중된 인구를 분산하려고 노력함.

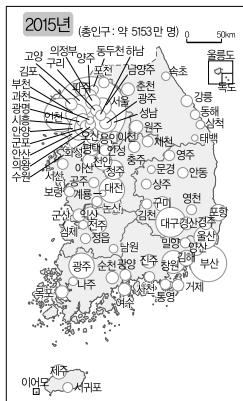
1 다음 ㉑, ㉒에 들어갈 알맞은 말을 쓰시오.

산업 발달 이전에는 남서쪽의 (㉑) 지역에 인구가 많았고, 북동쪽의 (㉒) 지역에는 인구가 적었습니다.

㉑: (), ㉒: ()

2 오른쪽 인구분포도와 같이 도시에 인구가 집중하여 나타나는 문제로 바뀐 것은 어느 것입니까?

- ① 자연환경이 깨끗해진다.
- ② 도시의 주택이 부족해진다.
- ③ 도시의 일손이 부족해진다.
- ④ 대도시 주변의 신도시가 사라진다.
- ⑤ 인구가 적은 지역이 더욱 발전하게 된다.



유형 ② 교통과 통신의 발달로 인한 국토의 변화

교통의 발달로 인한 변화	지역 간의 이동 시간은 줄어들고, 사람들의 생활권은 넓어졌음.
통신의 발달로 인한 변화	인터넷을 이용하여 직장에 출근하지 않고도 집에서 일을 하거나 물건을 살 수 있게 되었음.



- 시간과 공간의 제약을 극복할 수 있게 되었음.
- 국토의 모습은 크게 바뀌지 않았지만, 사람들이 느끼는 국토의 크기는 상대적으로 작아졌음.

3 다음 빈칸에 들어갈 교통수단을 쓰시오.

오늘날에는 서울에서 부산까지 ()을/를 타고 약 2시간 40분이면 갈 수 있습니다.

()

4 다음 보기에서 교통과 통신의 발달로 인한 국토의 변화 모습을 모두 골라 기호를 쓰시오.

보기

- ㉑ 생활권이 좁아졌습니다.
- ㉒ 지역 간의 이동 시간이 늘어났습니다.
- ㉓ 시간과 공간의 제약을 극복할 수 있게 되었습니다.
- ㉔ 사람들이 느끼는 국토의 크기는 상대적으로 작아졌습니다.

()

5 통신의 발달로 인한 변화로 알맞지 않은 것은 어느 것입니까?

- ① 인터넷으로 물건을 살 수 있다.
- ② 인터넷을 이용하여 재택근무를 한다.
- ③ 원하는 곳으로 쉽고 빠르게 이동한다.
- ④ 집에서도 다른 지역의 소식을 알 수 있다.
- ⑤ 먼 곳의 사람들과 손쉽게 정보를 주고받는다.

유형 ① 환경의 뜻과 특성

- (1) 환경의 뜻: 인간이나 동식물에게 영향을 미치는 자연적·사회적 조건을 말합니다.
- (2) 환경의 특성
 - ① 황사를 통해 알 수 있는 환경의 특성: 다양한 환경이 서로 영향을 주고받는 범위가 매우 넓습니다.
 - ② 태화강 사례를 통해 알 수 있는 환경의 특성: 자연 환경은 한번 오염되면 되돌리기 힘들 뿐만 아니라 우리가 보존하려고 노력하지 않으면 점점 더 오염되는 특성이 있습니다.
 - ③ 보르네오 섬의 사례를 통해 알 수 있는 환경의 특성: 다양한 환경이 밀접하게 관련되어 서로 영향을 주고받고 있습니다.

1 다음 빈칸에 공통으로 들어갈 알맞은 말을 쓰시오.

인간이나 동식물에게 영향을 미치는 자연적·사회적 조건을 () (이)라고 하며, 다양한 ()은/는 인간에게 많은 영향을 미칩니다.

()

2~3 다음 신문 기사 제목을 보고, 물음에 답하십시오.

보기

- ㉠ 중국 황사, 태평양 넘어 미국까지
- ㉡ 보르네오 섬에는 고양이 필요해
- ㉢ 되살아난 태화강에서 40년 만에 재첩잡이

2 위 보기에서 다양한 환경이 서로 영향을 주고받는 범위가 매우 넓다는 것을 알 수 있는 제목을 골라 기호를 쓰시오.

()


3 위 보기에서 한번 오염된 자연환경은 되돌리기 힘들다는 것을 알 수 있는 제목을 골라 기호를 쓰시오.

()

유형 ② 인간과 환경의 관계

환경이 인간의 삶에 영향을 준 사례	<ul style="list-style-type: none"> • 한옥의 대청: 더운 여름을 시원하게 나기 위하여 만들. • 배산임수 지역: 자연이 주는 혜택을 누리기 위하여 산과 하천을 끼고 마을을 이룸.
인간이 환경을 개발하는 사례	<ul style="list-style-type: none"> • 간척지: 생활에 필요한 땅을 만들기 위해 얕은 바다를 흙으로 메워 만들. • 댐: 인간이 강물의 양을 조절하려고 강을 가로막아 만들.
인간과 환경이 서로 영향을 주고받는 관계	금강 하굿둑이 만들어지면서 하천 주변의 환경을 변화시켰고, 변화된 환경은 인간의 삶에 영향을 주었음.

4 과학 기술의 발달로 인간이 환경을 개발하는 사례를 두 가지 고르시오. (,)



5 다음 내용을 통해 알 수 있는 인간과 환경의 관계로 바른 것은 어느 것입니까? ()

금강 하굿둑 주변의 농경지와 갈대밭에 다양한 겨울 철새들이 찾아오면서 철새 도래지가 형성되었습니다.

- ① 자연은 인간을 위하여 존재한다.
- ② 환경만 인간의 삶에 영향을 준다.
- ③ 인간과 환경은 서로 관련이 없다.
- ④ 인간과 환경이 서로 영향을 주고받으며 균형을 이루고 있다.
- ⑤ 환경은 인간에게 영향을 미치지만 인간은 환경에 영향을 미치지 않는다.

유형 1 국토 개발의 필요성

(1) 터널이 생기기 전과 후의 달라진 점

터널이 생기기 전	터널이 생긴 후
산을 넘으려면 위험한 도로를 이용해야 하였음.	빠르고 안전하게 산을 지나갈 수 있게 되었음.

(2) 국토 개발 사업

뜻	사람들이 편리한 생활을 할 수 있도록 국가에서 터널이나 고속 국도를 건설하고 다리, 항만, 주택 단지 등을 만드는 것을 말함.
필요성	사람들이 편리하게 생활하고 국토를 효율적으로 활용하기 위해서 필요함.
문제점	자연환경이 파괴되고, 동식물이 살 곳이 사라질 수 있음.
국토 개발의 방향	환경을 고려한 국토 개발이 이루어져야 함.

1 오른쪽 그림과 같이 터널이 생기면서 달라진 점을 바르게 설명한 것은 어느 것입니까? ()



- ① 국토 면적이 좁아졌다.
- ② 농사지을 땅이 늘어났다.
- ③ 물 부족 문제가 해결되었다.
- ④ 주택 부족 문제가 해결되었다.
- ⑤ 빠르고 안전하게 산을 지나갈 수 있게 되었다.

2 다음 시설들을 건설할 때 나타날 수 있는 현상으로 바르지 않은 것은 어느 것입니까? ()

댐, 공항, 주택 단지, 고속 국도

- ① 산림이 증가한다.
- ② 농경지가 훼손된다.
- ③ 자연환경이 파괴된다.
- ④ 환경 문제가 발생한다.
- ⑤ 동식물이 살 곳이 사라진다.

유형 2 바람직한 국토 개발의 방향

(1) 자연환경을 고려한 국토 개발 사례 예 창녕 우포 늪

습지 개발과 환경 보전 사이의 갈등	습지 개발로 지역의 환경이 훼손되어 정부가 환경 보전 지역으로 지정하려 하자, 지역 주민들이 반대하고 나섰다.
환경 보전을 위한 토론회 개최	정부는 지역 주민들과의 갈등을 해결하려고 여러 차례 토론회를 열었고, 환경 보전 지역으로 지정되어서 생기는 피해를 보상하기도 함.
결과	주민과 정부가 합의를 하면서 이 지역은 환경 보전 지역으로 지정될 수 있었음.

(2) 친환경적인 국토 개발의 필요성: 인간이 환경을 파괴하면 그 피해는 결국 인간에게 되돌아오기 때문에 국토 개발은 자연환경과 그 속에서 살아가는 생물들을 고려하여 친환경적으로 이루어져야 합니다.

3 정부가 지역 주민들과의 갈등을 해결하기 위한 노력으로 알맞은 것을 두 가지 고르시오.

(,)

- ① 여러 차례 토론회를 연다.
- ② 지역 주민들의 의견을 무시한다.
- ③ 지역 주민들의 피해를 보상해 준다.
- ④ 지역 주민들에게 세금을 많이 거두어들인다.
- ⑤ 지역 주민들에게 정부의 의견을 따르도록 강요한다.

4 친환경적인 국토 개발에 대해 바르게 말한 어린이는 누구인지 쓰시오.

선영: 인간과 환경이 조화를 이루어야 해.

민성: 지역 경제 발전을 가장 우선적으로 생각해야 해.

준수: 인간의 편리한 생활을 위해서는 환경을 파괴해도 괜찮아.

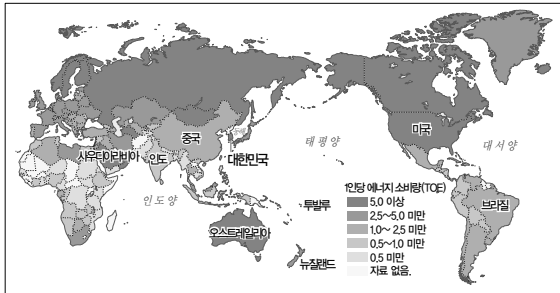
()

유형 ① 지속 가능한 발전의 필요성

- (1) **한정된 자원:** 우리가 쓸 수 있는 지구 상의 자원은 한정되어 있습니다.
- (2) **자원의 불평등한 분배:** 한정된 자원으로 생산되는 에너지를 모든 나라가 공평하게 사용하지 않고 있습니다.
- (3) **지속 가능한 발전의 의미**

사회	모든 사람이 평등하고 행복한 삶
경제	환경을 고려하면서 인류가 지속적으로 발전할 수 있는 경제 개발
환경	현재 세대와 우리 후손이 모두 쾌적하게 살 수 있는 환경 만들기

1 다음 자료를 통해 알 수 있는 사실로 바른 것은 어느 것입니까? ()



▲ 국가별 1인당 에너지 소비량(2013년)

- ① 미국과 중국의 1인당 에너지 소비량이 같다.
- ② 국가별 1인당 에너지 소비량이 줄어들고 있다.
- ③ 가난한 나라에서 에너지를 모두 사용하고 있다.
- ④ 일부 나라에서 에너지를 대부분 사용하고 있다.
- ⑤ 모든 나라가 에너지를 공평하게 사용하고 있다.

2 다음에서 설명하는 것은 무엇인지 쓰시오.

사회, 경제, 환경적인 면에서 현재 세대뿐만 아니라 미래 세대도 고려한 발전입니다.

()

유형 ② 지속 가능한 발전의 사례와 태도

(1) 지속 가능한 발전의 사례

광주광역시 신효천 마을	각 가정마다 태양광 시설을 설치하여 전기 요금이 줄어들었음.
독일의 프라이부르크 시	<ul style="list-style-type: none"> 태양광 발전을 하여 태양광 에너지를 적극적으로 활용하고 있음. 정부와 시민들은 친환경 도시를 만들기 위해 노력하고 있음.

(2) 지속 가능한 발전을 위해 필요한 태도

독일인 과학자 쉐플러가 한 일	태양열 조리기를 발명하여 누구나 무료로 사용하도록 특허를 내지 않았음.
지속 가능한 발전을 위한 태도	남을 생각하고 배려하는 마음이 필요함.

3 독일의 프라이부르크 시에서 지속 가능한 발전을 위해 노력하는 일로 바르지 않은 것은 어느 것입니까? ()

- ① 태양광 발전을 한다.
- ② 자가용 이용을 줄인다.
- ③ 낮에도 형광등을 켜 놓는다.
- ④ 대중교통이나 자전거를 이용한다.
- ⑤ 주민들이 직접 하천 살리기 운동에 나선다.

4 독일인 과학자 쉐플러가 지속 가능한 발전을 위해 한 일은 무엇입니까? ()

- ① 폐병에 걸린 사람들을 치료해 주었다.
- ② 야생 동물을 물리치는 방법을 알려 주었다.
- ③ 농작물 생산을 늘릴 수 있는 농기계를 발명하였다.
- ④ 태양열 조리기를 발명하여 누구나 무료로 사용하도록 하였다.
- ⑤ 뿔감을 구하다가 야생 동물의 공격을 받은 여성을 구해 주었다.

유형 ① 우리 경제의 특징

(1) 경제 활동의 자유

개인	<ul style="list-style-type: none"> • 자신의 능력과 적성에 따라 자유롭게 직업을 선택함. • 자신이 벌어들인 소득을 자유롭게 소비하고 저축함.
기업	<ul style="list-style-type: none"> • 무엇을 얼마만큼 생산하여 판매할지 스스로 결정함. • 판매하여 얻은 수입을 어떻게 사용할지 자유롭게 결정함.

(2) 경쟁

개인	자신이 원하는 것을 얻기 위하여 경쟁함.
기업	많은 물건을 팔아 더 많은 이윤을 얻기 위하여 여러 가지 방법으로 경쟁함.

1 다음 사진과 관련 있는 경제 활동의 자유는 무엇입니까? ()



- ① 얼마만큼 생산할지 결정한다.
- ② 선택한 직업에서 자유롭게 일한다.
- ③ 자신이 벌어들인 소득을 자유롭게 소비한다.
- ④ 능력과 적성에 따라 자유롭게 직업을 선택한다.
- ⑤ 판매하여 얻은 수입을 어떻게 사용할지 자유롭게 결정한다.

2 다음 빈칸에 들어갈 알맞은 말을 쓰시오.

기업들은 생산에 필요한 인재를 구하거나 많은 물건을 팔아 더 많은 이윤을 얻기 위해 ()합니다.

()

유형 ② 경제 활동의 자유와 경쟁이 우리 생활에 주는 도움

(1) 경제 활동의 자유가 우리 생활에 주는 도움

- ① 자신이 원하는 직업을 가질 수 있으므로 더 즐겁게 일할 수 있습니다.
- ② 자신이 선택한 일에서 자신의 생각대로 직업 활동을 할 수 있으므로 일의 능률이 오릅니다.
- ③ 자신이 번 돈을 자신의 의지대로 사용할 수 있으므로 더 열심히 일할 수 있습니다.

(2) 기업 간의 경쟁이 우리 생활에 주는 도움

가격 경쟁	소비자들은 싼값에 물건을 살 수 있음.
품질 및 디자인 경쟁	소비자들은 품질과 디자인이 좋은 제품을 살 수 있음.
광고 경쟁	소비자들은 제품에 대한 정보를 쉽게 얻을 수 있음.
서비스 경쟁	소비자들은 좋은 서비스를 받을 수 있음.

3 경제 활동에서 직업 선택의 자유가 우리 생활에 주는 도움으로 알맞은 것은 어느 것입니까? ()

- ① 더 즐겁게 일할 수 있다.
- ② 물건의 가격을 낮출 수 있다.
- ③ 소득과 소비를 늘릴 수 있다.
- ④ 품질이 좋은 물건을 고를 수 있다.
- ⑤ 자신이 번 돈으로 저축을 할 수 있다.

4 기업 간의 경쟁이 소비자들에게 주는 도움으로 바른 것을 두 가지 고르시오. (,)

- ① 좋은 서비스를 받을 수 있다.
- ② 돈이 없어도 물건을 살 수 있다.
- ③ 가격만 보고 물건을 고를 수 있다.
- ④ 제품에 대한 정보를 쉽게 얻을 수 있다.
- ⑤ 다른 사람보다 질 좋은 제품을 비싸게 살 수 있다.

유형 ① 우리 경제의 성장 모습

(1) 경제 성장에 따른 생활 모습의 변화

주택의 변화	<ul style="list-style-type: none"> • 집 안에서의 생활이 편리해졌음. • 옛날에는 초가집이나 기와집이 많았으나 오늘날에는 단독 주택, 연립 주택, 아파트가 많아졌음.
교통의 변화	자동차 수가 증가하였고, 도로가 넓어졌음.
교실의 변화	<ul style="list-style-type: none"> • 교실의 환경이 좋아졌음. • 한 학급당 학생 수가 줄어들었음.

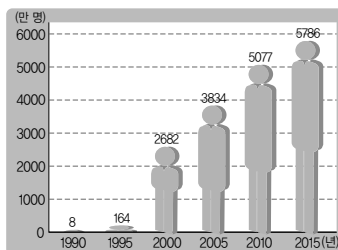
(2) 여러 가지 자료를 통해 본 경제 성장의 모습

- ① 국내 총생산과 1인당 국민 총소득이 계속 증가하고 있습니다.
- ② 자동차 등록 대수와 휴대 전화 가입자 수가 크게 증가하였습니다.
- ③ 우리나라 사람들의 평균 수명이 늘어났습니다.

1 경제가 성장함에 따라 달라진 생활 모습으로 바르지 않은 것은 어느 것입니까? ()

- ① 도로가 넓어졌다.
- ② 높은 건물이 생겼다.
- ③ 자동차 수가 증가하였다.
- ④ 여가 시간이 줄어들었다.
- ⑤ 기계를 이용하여 농사를 짓는다.

2 다음 그래프와 같이 휴대 전화 가입자 수가 늘어나게 된 원인은 무엇입니까? ()



▲ 휴대 전화 가입자 수

- ① 외환 위기
- ② 실업자 수 증가
- ③ 국내 총생산 감소
- ④ 국민들의 소득 증가
- ⑤ 값싼 외국 농산물 수입

유형 ② 우리나라의 산업이 발달해 온 과정

(1) 우리나라의 산업 발달 과정

1960년대 이전	농업, 어업 중심의 산업이 발달하였음.
1960년대	노동력이 풍부하고 기술과 자본은 부족했기 때문에 경공업이 발달하였음.
1970 ~ 1980년대	점차 기술과 자본을 갖추게 되면서 중화학 공업이 발달하였음.
1990년대	경제가 발전하고 국민 소득이 높아지면서 컴퓨터·반도체·정보 통신 산업이 발달하였음.
2000년대 이후	서비스업, 첨단 산업이 발달하고 있음.

(2) 우리나라 산업 발달 과정의 특징

- ① 농업과 어업 중심에서 공업과 서비스업 중심으로 변화하였습니다.
- ② 경공업 중심에서 중화학 공업과 첨단 산업 중심으로 변화하였습니다.

3 1970~1980년대 우리나라에서 중화학 공업이 발달하게 된 까닭은 무엇입니까? ()

- ① 자원이 풍부하였기 때문에
- ② 노동력이 풍부하였기 때문에
- ③ 기술과 자본을 갖추게 되었기 때문에
- ④ 최첨단 기술을 가지고 있었기 때문에
- ⑤ 넓은 논과 밭을 가지고 있었기 때문에

4 1990년대 우리나라에서 발달한 산업은 어느 것입니까? ()

- ① 조선 산업
- ② 전자 산업
- ③ 첨단 산업
- ④ 자동차 산업
- ⑤ 반도체 산업

5 다음 빈칸에 들어갈 알맞은 말을 쓰시오.

우리나라의 산업은 농업과 어업 중심에서 공업과 () 중심으로 변화하였습니다.

()

유형 ① 경제 성장을 위한 근로자의 노력

(1) 근로자의 노력

노력	<ul style="list-style-type: none"> • 산업 현장에서 자신에게 주어진 일에 최선을 다하였음. • 질 좋은 제품을 만들고 새로운 기술을 개발하기 위하여 연구하였음.
역할	우리 경제를 성장시키는 밑거름이 되었음.

(2) 국외로 진출한 근로자의 노력

과거	광부, 간호사, 건설 근로자 등이 독일과 서남아시아 지역에서 일하며 많은 외화를 벌어들였음.
오늘날	세계 여러 지역으로 진출하여 우리나라를 널리 알리고 우리 경제의 성장을 위하여 노력하고 있음.

1 경제 성장을 위한 근로자의 노력으로 바르지 않은 것은 어느 것입니까? ()

- ① 고속 국도나 부두 등을 건설하였다.
- ② 국외로 진출하여 외화를 벌어들였다.
- ③ 새로운 기술을 개발하기 위해 연구하였다.
- ④ 산업 현장에서 주어진 일에 최선을 다하였다.
- ⑤ 질 좋은 제품을 만들기 위하여 노력하였다.

2 다음 보기에서 국외로 진출한 근로자들이 경제 성장을 위해 노력한 일로 알맞은 것을 모두 골라 기호를 쓰시오.

보기

- ㉠ 건설 근로자들은 서남아시아의 건설 현장에서 일하였습니다.
- ㉡ 1960년대에 광부와 간호사가 중국으로 파견되어 외화를 벌어들였습니다.
- ㉢ 오늘날에는 근로자들이 세계 여러 지역으로 진출하여 우리나라를 널리 알리고, 외화를 벌고 있습니다.

()

유형 ② 경제 성장을 위한 기업가와 정부의 노력

기업가의 노력	<ul style="list-style-type: none"> • 공장이나 회사를 세워 다양한 산업을 발전시켰음. • 새로운 기술을 개발하기 위하여 투자하였음. • 세계 여러 나라에 우리 제품을 수출하여 외화를 벌어들였음.
정부의 노력	<ul style="list-style-type: none"> • 고속 국도와 제철소, 부두 등 중요한 시설을 건설하였음. • 주요 산업을 발전시키고 개인과 기업의 연구·개발을 지속적으로 지원하였음. • 수출을 늘리기 위하여 다른 나라와 관계를 맺고 우리나라의 기술과 제품을 홍보하였음.

3 경제 성장을 위한 기업가의 노력으로 바른 것을 두 가지 고르시오. (,)

- ① 공장이나 회사 세우기
- ② 기술 개발을 위해 투자하기
- ③ 값싼 외국 농산물 수입하기
- ④ 고속 국도, 제철소, 부두 건설하기
- ⑤ 경제 활동을 위한 법과 제도 마련하기

4 정부에서 오른쪽 사진과 같은 경부 고속 국도를 건설한 까닭은 무엇입니까? ()



- ① 지역 간의 화합을 이룰 수 있기 때문에
- ② 홍수와 가뭄의 피해를 막을 수 있기 때문에
- ③ 우주 기술 산업을 발달시킬 수 있기 때문에
- ④ 다른 나라와의 거래에 필요한 외환이 부족하였기 때문에
- ⑤ 물건을 쉽고 빠르게 운반할 수 있어 경제 성장을 촉진하는 역할을 할 수 있기 때문에

유형 ① 무역의 뜻과 우리나라 무역의 특징

(1) 무역의 뜻과 무역이 이루어지는 까닭

무역의 뜻	나라 간에 서로 필요한 것을 사고파는 활동을 말함.
무역이 이루어지는 까닭	각 나라가 가지고 있는 자연환경, 자본, 기술, 생산되는 것 등이 서로 다르기 때문에 필요한 것을 구하거나 이익을 얻기 위해서 무역을 함.

(2) 우리나라 무역의 특징

- ① 자원이 부족하여 원유, 천연가스 등을 주로 수입하고, 컴퓨터, 기계 등에 들어가는 부품도 수입한다.
- ② 반도체, 자동차 등 우수한 기술이 필요한 제품을 주로 수출합니다.
- ③ 자원이나 원료를 수입하고, 그것을 가공하여 제품을 만들어 외국에 수출합니다.
- ④ 우리나라는 전체 무역액에서 중국, 미국, 일본 등 몇 나라가 차지하는 비율이 높고, 무역 상대국이 다양하지 않습니다.

1 나라 간에 서로 필요한 것을 사고파는 활동을 무엇이라고 하는지 쓰시오.

()

2 위 1번 답과 같은 활동이 이루어지는 것은 각 나라마다 무엇이 다르기 때문입니까?()

- ① 역사 ② 인구 ③ 풍습
④ 자본 ⑤ 언어

3 우리나라 무역의 특징으로 바르지 않은 것은 어느 것입니까? ()

- ① 무역 상대국이 다양하지 않다.
- ② 무역 상대국의 영향을 받지 않는다.
- ③ 우수한 기술이 필요한 제품을 수출한다.
- ④ 원유, 천연가스 등의 자원을 주로 수입한다.
- ⑤ 자원이나 원료를 수입하고, 그것을 가공하여 제품을 만들어 외국에 수출한다.

유형 ② 국제 경쟁력을 키우기 위한 방안

(1) 변화하는 세계 무역 환경

- ① 환경 오염에 대한 관심이 높아져 친환경 제품을 선호하고 있습니다.
- ② 나라 간의 무역이 자유롭게 이루어지고 있습니다.

(2) 국제 경쟁력 향상 방안

- ① 수출품을 다양화합니다.
- ② 새로운 무역 시장을 개척합니다.
- ③ 우리나라의 제품을 다른 나라에 홍보합니다.
- ④ 새로운 기술을 개발하고 품질을 개선합니다.

4 나라 간의 무역이 자유롭게 이루어지면서 값싼 외국 농산물이 많이 수입될 때 일어나는 일은 무엇입니까? ()

- ① 우리 농산물의 판매가 줄어든다.
- ② 우리 농산물의 가격이 올라간다.
- ③ 외국 농산물의 소비가 줄어든다.
- ④ 우리 농산물의 생산량이 늘어난다.
- ⑤ 우리 농산물의 생산 비용이 줄어든다.

5 다음과 같은 노력이 필요한 까닭은 무엇입니까? ()

- 품질 개선하기
- 새로운 기술 개발하기
- 새로운 무역 시장 개척하기
- 우리나라의 제품을 다른 나라에 홍보하기

- ① 무역 상대국을 줄이기 위해서
- ② 국제 경쟁력을 키우기 위해서
- ③ 부족한 자원을 확보하기 위해서
- ④ 자유로운 여가 활동을 하기 위해서
- ⑤ 우리 근로자들의 해외 진출을 막기 위해서

유형 ① 경제 성장 과정에서 나타난 문제점

빈부 격차	<ul style="list-style-type: none"> 경제적으로 어려운 사람들은 점점 더 살기 어려워짐. 소득이 높은 사람은 더 잘살고, 소득이 낮은 사람은 더 살기 어려워짐으로 갈등이 생길 수 있음.
자원 고갈	<ul style="list-style-type: none"> 자원 확보를 위한 국가 간의 갈등이 심해짐. 물건을 제대로 만들지 못하거나 물건의 가격이 오를 수 있고, 생활이 불편해짐.
노사 갈등	<ul style="list-style-type: none"> 회사는 물건을 생산하지 못해 손해를 입을 수 있음. 근로자는 일을 하지 못해 월급을 받지 못할 수 있음.

1 다음 보기에서 경제 성장 과정에서 나타난 문제점을 모두 골라 기호를 쓰시오.

보기

- ㉠ 자원 고갈 ㉡ 빈부 격차
 ㉢ 노사 갈등 ㉣ 수입국의 다양화
 ㉤ 국내 총생산 증가

()

2 경제 성장 과정에서 나타난 문제점 중 다음 내용과 관련 있는 것은 어느 것입니까? ()

- 주유소의 기름값이 오르면 사람들이 생활하기가 어려워집니다.
- 일반 건물의 여름철 실내 온도를 26℃ 이상으로 유지할 것을 권장하고 있습니다.

- ① 빈부 격차 ② 자원 고갈
 ③ 노사 갈등 ④ 세대 간 갈등
 ⑤ 물질 만능주의

유형 ② 경제 성장 과정에서 나타난 문제점의 해결 노력

빈부 격차	경제적으로 어려움을 겪는 사람들에게 일자리 지원, 생계비 지원, 양육비 및 학비 지원 등을 함.
자원 고갈	<ul style="list-style-type: none"> 새로운 자원을 개발하려고 노력함. 지구촌 불 끄기 행사를 여는 것과 같이 에너지를 절약하려고 노력함. 대중교통 이용을 권장하는 캠페인을 함.
노사 갈등	<ul style="list-style-type: none"> 근로자와 기업가가 대화를 하여 문제를 해결하려고 노력함. 근로자 단체, 기업가 단체, 정부로 구성된 위원회를 만들어 경제가 균형 있게 발전하도록 노력함.

3 빈부 격차를 해결하기 위한 노력으로 바른 것을 두 가지 고르시오. ()

- ① 저소득층에게 일자리를 지원해 준다.
 ② 고소득층에게 생계비를 지원해 준다.
 ③ 저소득층에게 세금을 많이 내게 한다.
 ④ 새로운 자원을 개발하기 위해 노력한다.
 ⑤ 저소득층에게 양육비나 학비를 지원해 준다.

4 다음 사진과 같이 지구촌 불 끄기 행사가 열리는 까닭은 무엇입니까? ()



▲ 불 끄기 전후의 모습

- ① 저소득층을 돕기 위해서
 ② 노사 갈등을 줄이기 위해서
 ③ 천연자원을 확보하기 위해서
 ④ 에너지 부족을 해결하기 위해서
 ⑤ 자원을 수입하는 나라를 다양화하기 위해서

유형 ① 공동체의 문제 해결에 참여하는 방법

- (1) 공동체의 문제를 해결하는 데 참여해야 하는 까닭
- ① 공동체의 문제를 해결하는 여러 가지 결정에 국민의 뜻이 반영되어야 하기 때문입니다.
 - ② 민주주의를 유지하고 발전시키기 위해서입니다.
- (2) 공동체의 문제 해결에 참여하는 방법
- ① 텔레비전이나 신문과 같은 언론을 통하여 자신의 의견이나 정보를 전달합니다.
 - ② 인터넷에 의견을 올리거나 설문 조사에 참여하여 공동체의 문제 해결에 참여합니다.
 - ③ 대표를 뽑는 선거나 사람들 간에 의견 차이가 있는 문제를 해결하기 위한 투표로 의견을 제시합니다.
 - ④ 1인 시위와 같은 방법으로 개인의 의견을 표현합니다.
 - ⑤ 자신과 뜻을 같이하는 사람들과 정당이나 시민단체, 노동조합 등을 만들어 함께 의견을 제시합니다.

1 공동체의 문제 해결에 참여하는 방법으로 바른 것을 보기에서 모두 골라 기호를 쓰시오.

보기

- ㉠ 설문 조사에 참여합니다.
- ㉡ 언론을 통하여 의견을 전달합니다.
- ㉢ 일기에 해결 방법을 적어 놓습니다.
- ㉣ 1인 시위를 통해 의견을 표현합니다.

()

2 오른쪽과 같이 공동체의 문제 해결에 참여하는 방법은 무엇입니까?

()



- ① 투표하기
- ② 1인 시위하기
- ③ 인터넷에 의견 올리기
- ④ 설문 조사에 참여하기
- ⑤ 언론을 통해 의견 제시하기

유형 ② 분단과 북한 이탈 주민

(1) 분단으로 우리 민족이 겪고 있는 문제점

- ① 북한 이탈 주민이라는 새로운 이산가족이 생기고 있습니다.
- ② 남한과 북한의 문화가 점점 달라지고 있습니다.
- ③ 북한 이탈 주민들이 남한 사회에 적응하는 데 어려움을 겪고 있습니다.

(2) 북한 이탈 주민

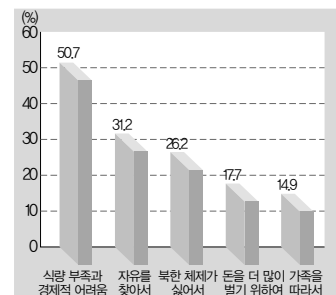
의미	북한을 떠나 남한으로 들어온 사람임.
북한을 떠난 이유	식량 부족과 경제적 어려움을 피해서, 자유를 찾아서, 북한 체제가 싫어서, 돈을 더 많이 벌기 위하여 등
남한에서 겪는 어려움	외래어로 인한 의사소통 문제, 북한 사투리에 대한 남한 사회의 편견, 교육비나 생계유지 문제, 북한에 두고 온 가족에 대한 그리움 등

3 다음 빈칸에 들어갈 알맞은 말을 쓰시오.

북한의 많은 사람이 식량 부족과 경제적 어려움을 겪었던 1990년대 중반 이후, 북한을 떠나 남한에 들어온 ()은/는 2만 명을 넘어섰습니다.

()

4 다음 그래프를 보고, 북한 이탈 주민들이 북한을 떠난 가장 큰 이유는 무엇인지 쓰시오.



▲ 북한을 떠난 이유

()

유형 ① 새로운 매체의 등장으로 일어난 변화

(1) 새로운 매체로 일어난 변화

- ① 누구나 새로운 정보나 문화를 만들어 낼 수 있습니다.
- ② 새로운 정보나 문화를 여러 사람이 빠르게 공유할 수 있습니다.

(2) 새로운 매체의 긍정적인 면과 부정적인 면

긍정적인 면	<ul style="list-style-type: none"> • 다양한 자료를 쉽고 빠르게 찾을 수 있음. • 먼 곳에 있는 사람과도 쉽게 정보를 주고받을 수 있음.
부정적인 면	스마트폰 중독, 개인 정보 유출, 저작권 침해, 사이버 따돌림 등

1 새로운 매체의 긍정적인 면으로 바른 것을

보기에서 모두 골라 기호를 쓰시오.

보기

- ㉠ 먼 곳으로 빠르게 이동할 수 있습니다.
- ㉡ 친구들과 어울리는 시간이 줄어들게 됩니다.
- ㉢ 다양한 자료를 쉽고 빠르게 찾을 수 있습니다.
- ㉣ 먼 곳에 있는 사람과도 쉽게 정보를 주고받을 수 있습니다.

()

2 오른쪽 그림을 보고 알 수 있는 새로운 매체의 부정적인 면은 무엇입니까?

()



- ① 가족과 대화 시간이 줄어든다.
- ② 안전사고의 위험에 처할 수 있다.
- ③ 지나친 스마트폰 이용으로 건강이 나빠진다.
- ④ 친구를 놀리고 괴롭히는 문자 메시지를 보낸다.
- ⑤ 다른 사람의 정보나 프로그램을 불법으로 내려받는다.

유형 ② 전통문화와 전통문화 콘텐츠

(1) 전통문화


의미	오랜 세월에 걸쳐 이어져 내려와 우리의 고유한 가치로 인정받은 것
종류	김치, 효 사상, 한글(『훈민정음』), 탈놀이, 한복, 한옥, 사물놀이 등
특징	<ul style="list-style-type: none"> • 민족을 하나로 연결하는 역할을 하기 때문에 중요함. • 아름답고 과학적으로 뛰어난 것이 많음. • 우리의 생활 문화와 예절도 수준 높은 문화로 인정받고 있음.

(2) 전통문화 콘텐츠: 전통문화를 계승하고 발전시켜 새롭게 문화를 창조하거나 상품으로 만들어 낸 것입니다.

3 다음 보고서의 ㉠에 들어갈 알맞은 말을 쓰시오.

주제: 자랑스러운 (㉠)

1. 의미: 오랜 세월에 걸쳐 이어져 내려와 우리의 고유한 가치로 인정받은 것
2. 종류



▲ 김치



▲ 효 사상

3. 특징: 아름답고 과학적으로 뛰어난 것이 많음.

()

4 우리의 전통문화 콘텐츠에 해당하는 것을 두 가지 고르시오.

(,)

- ① 난타
- ② 발레
- ③ 클래식
- ④ 생활한복
- ⑤ 영어 문양 가방

실전 서술형·논술형 문제

1-① 소중한 우리 국토

- 1 다음 글과 같이 우리나라가 세계 속으로 나아갈 수 있는 까닭을 위치적 특징과 관련하여 쓰시오.

우리나라는 여러 나라들과 문화 및 물자 등의 교류를 통해 세계 속으로 나아가고 있습니다.

- 2 다음 지도를 보고, 물음에 답하십시오.



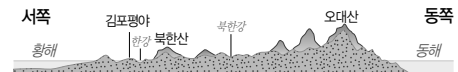
- (1) 위 지도와 같이 한 나라의 힘이 미치는 바다의 범위를 무엇이라고 하는지 쓰시오.

()

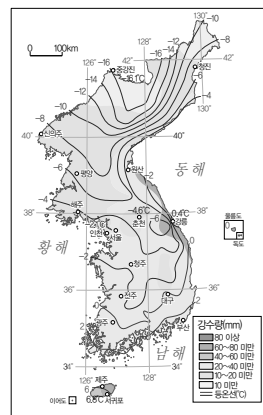
- (2) 위 (1)번 답의 기준이 되는 선을 동해안과 서해안·남해안으로 나누어 쓰시오.

1-② 아름다운 우리 국토

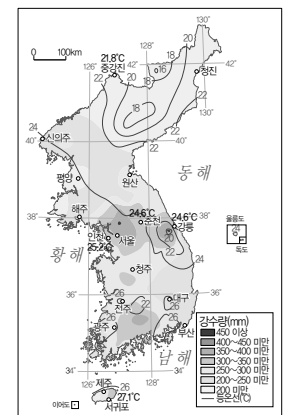
- 3 다음 우리나라의 지형 단면도를 보고, 동쪽이 서쪽보다 높은 까닭은 무엇인지 쓰시오.



- 4 다음 기후도를 보고, 남북의 기온 차이가 큰 까닭은 무엇인지 쓰시오.



▲ 1월의 평균 기온과 강수량



▲ 8월의 평균 기온과 강수량

실전 서술형·논술형 문제

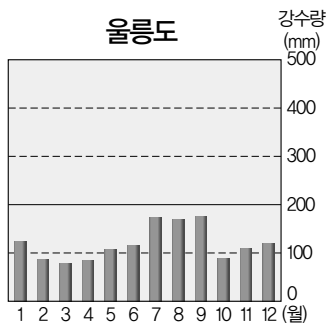
- 5 다음 자료에서 우리나라로 (가) 바람이 부는 계절과 그 바람의 특징을 쓰시오.



(1) 계절: ()

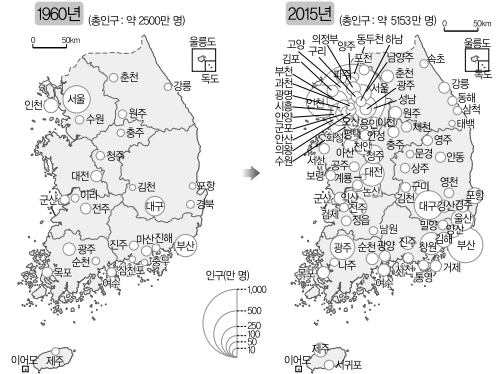
(2) 특징: _____

- 6 다음 강수량 그래프를 보고, 울릉도에서 우데기를 설치한 까닭을 강수량의 특징과 관련하여 쓰시오.



1-㉓ 변화하는 우리 국토

- 7 다음 인구분포도를 보고, 물음에 답하십시오.



- (1) 1960년의 인구분포도를 보고, 남서쪽과 북동쪽 중 우리나라의 인구가 더 많은 곳은 어디인지 쓰시오.
 ()

- (2) 2015년의 인구분포도를 보고, 오늘날 우리나라 인구 분포의 특징을 쓰시오.

- 8 다음 사진에서 알 수 있는 지형과 관련하여 전라북도 부안군의 인구 특징을 쓰시오.



▲ 전라북도 부안군

2-① 우리를 둘러싼 환경

1 다음 사진의 지역이 도시와 비교하여 어떤 환경을 가지고 있는지 쓰시오.




2 다음 사례를 통해 알 수 있는 환경의 특성을 쓰시오.

1955년 인도네시아의 보르네오 섬에서는 말라리아를 일으키는 말라리아모기를 없애려고 많은 양의 살충제를 여러 차례 뿌렸습니다.

그 결과 모기를 없애는 데는 성공하였지만, 모기보다 몸집이 큰 바퀴벌레는 살충제를 흡수하였을 뿐 죽지 않았습니다. 이런 바퀴벌레를 먹은 도마뱀은 몸속에 살충제가 쌓여 운동 신경에 장애가 발생하였고, 움직임이 느려진 도마뱀을 잡아먹은 고양이들도 죽어 갔습니다. 고양이가 없어진 마을에는 쥐가 빠르게 증가하면서 말라리아보다 더 무서운 전염병이 돌기 시작하였습니다.

3 다음 사진을 보고, 물음에 답하십시오.



(1) 위 사진과 같이 뒤쪽에는 산이 있고, 앞쪽에는 하천이 흐르는 마을의 모습을 무엇이라고 하는지 쓰시오.

()

(2) 위 사진과 같은 모습을 통해 알 수 있는 인간과 환경의 관계를 쓰시오.

2-② 인간과 환경의 조화로운 삶

4 다음 내용을 보고, 물음에 답하십시오.

오른쪽 그림의 지역은 홍수가 나서 집과 농경지가 물에 잠겼습니다.

(1) 위 그림의 지역에 필요한 시설을 쓰시오.

()

(2) 위 (1)번 답과 같은 시설을 만드는 국토 개발 사업이 필요한 까닭을 쓰시오.

실전 서술형·논술형 문제

- 5 다음 그림은 터널 공사로 인한 갈등을 나타낸 것입니다. 물음에 답하십시오.

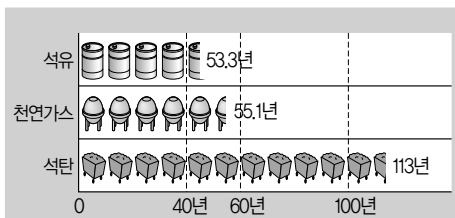


- (1) 위의 ㉠에 들어갈 알맞은 내용을 쓰시오.

- (2) 위 (1)번 답과 같은 문제를 해결하기 위한 바람직한 국토 개발의 방향을 쓰시오.

2-㉢ 모두를 위한 지속 가능한 발전

- 6 다음 그래프에 나타난 문제점을 해결하는 방법은 무엇인지 쓰시오.



▲ 세계 천연자원의 사용 가능한 기간(2013년)

- 7 다음 사진을 보고, 독일의 프라이부르크 시가 '태양의 도시'라고 불리는 까닭은 무엇인지 쓰시오.



- 8 다음 글을 읽고, 지속 가능한 발전을 위해서 필요한 태도는 무엇인지 쓰시오.

어느 가난한 나라의 사람들은 40℃를 넘나드는 더위 속에서도 땀감을 구하기 위하여 나셔야 하였습니다. 특히 땀감을 구하다 단속을 받기도 하고, 야생 동물의 공격으로 위험에 처하기도 하였습니다.

몇 시간 동안 위험을 무릅쓰고 땀감을 구해와도 불을 땔 때 나오는 연기 때문에 폐병에 걸리는 환자만 1년에 수십만 명에 달하였습니다.

이때 나무와 같은 연료가 필요 없는 태양열 조리기가 등장하였습니다. 독일인 과학자 쉘플러는 자신이 발명한 이 태양열 조리기를 모든 사람이 무료로 사용할 수 있도록 특허를 내지 않았습니다.

3-① 우리 경제의 특징

- 1 다음 사진을 통해 알 수 있는 우리 경제의 특징을 쓰시오.



▲ 자유로운 직업 생활



▲ 소득의 자유로운 사용

- 2 다음 그림은 기업 간의 경쟁 모습을 나타낸 것입니다. 물음에 답하십시오.

(가)



(나)



- (1) 위 (나)의 빈칸에 들어갈 알맞은 말을 쓰시오.
()

- (2) 위 (가)와 같은 기업 간의 자유로운 경쟁을 통해 소비자들이 얻는 이점은 무엇인지 쓰시오.

3-② 우리 경제의 성장 과정

- 3 다음 신문 기사와 같이 우리나라 사람들의 평균 수명이 늘어난 까닭은 무엇인지 쓰시오.

○○ 신문

201○년 ○월 ○일

우리나라 평균 수명, 지난 40년간 급속도로 연장

지난 40년간 한국인의 평균 수명이 급속도로 늘어난 것으로 나타났다.

우리나라 남자의 평균 수명은 1973년 59.6세에서 2014년에는 79세로 늘어났고, 여자의 평균 수명은 같은 기간에 67세에서 85.5세로 늘어난 것으로 나타났다.

- 4 우리나라에 다음과 같은 산업이 발달한 시기와 그 까닭을 쓰시오.



▲ 섬유 산업

- (1) 발달한 시기: ()
(2) 발달한 까닭: _____

실전 서술형·논술형 문제

3-③ 우리 경제의 성장을 위하여 노력한 사람들

5 다음은 우리나라의 조선 산업을 발전시킨 사람들의 노력을 정리한 표입니다. ㉠에 들어갈 알맞은 내용을 쓰시오.

근로자	배에 색칠하기, 전자 장비 다루기 등과 같이 자신이 맡은 일을 열심히 하였음.
기업가	조선소를 세우고 배를 수출하기 위해 노력하였음.
정부	(㉠)

6 다음 신문 기사의 밑줄 친 부분에 들어갈 정
부가 제철소를 세운 까닭은 무엇인지 쓰시오.

○○ 신문

197○년 ○월 ○일

철강 제품을 수출하는 나라



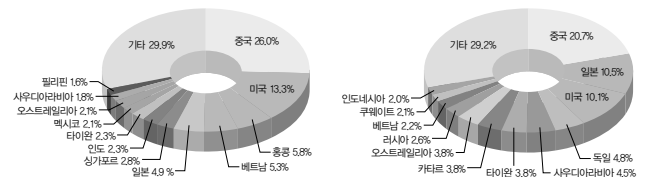
정부는 포항에 제철소를 세워 제철 산업을 육성하고 있다. 제철 산업은

3-④ 세계 속의 우리 경제

7 다음 그림을 보고, ○○ 나라와 △△ 나라는 부족하거나 필요한 것을 어떻게 구하는지 쓰시오.



8 다음은 우리나라의 국가별 무역액 비율을 나타낸 그래프입니다. 물음에 답하십시오.



▲ 2015년 국가별 수출액 비율

▲ 2015년 국가별 수입액 비율

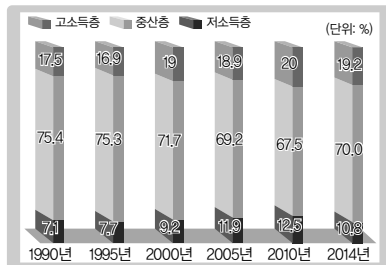
(1) 위 그래프에서 우리나라의 수출액 및 수입액 비율이 가장 높은 나라는 어디인지 쓰시오.

$$\left(\begin{array}{c} \text{ } \end{array} \right)$$

(2) 위 그래프를 통해 알 수 있는 우리나라 무역의 특징을 쓰시오.

4-① 경제 성장의 그림자

- 1 다음 그래프를 보고, 비율이 점점 줄어들고 있는 계층과 계층 간의 소득 격차가 커지면 발생하는 문제를 쓰시오.



- (1) 줄어들고 있는 계층: ()

- (2) 문제점: _____
- _____



- ▲ 지하철 이용

▲ 버스 이용

- 3** 다음과 같이 신문 활용 학습(NIE)을 할 때 사진을 활용하는 방법을 쓰시오.

○○신문

201○년 ○월 ○일

심각해지는 환경 문제, 이제는 해결해야

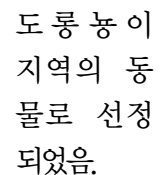
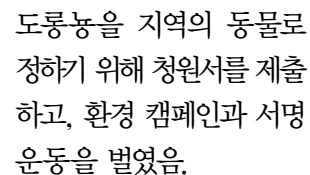
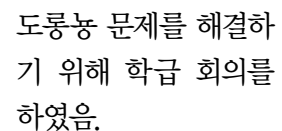
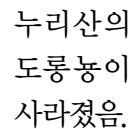
과학 기술의 발달은 우리에게 자연과 더불어 살도록, 혹은 자연을 변화시켜 새로운 환경을 만들며 살아가도록 하였다. 그렇다면 우리 주위의 환경은 실제로 어떻게 변화해 왔을까?

산업화와 과학화가 진행되면서 “10년이면 강산도 변한다.”라는 옛말이 무색하게 우리 주위의 환경은 끊임없이 변하고 있다.

-
-
-

4-② 우리 사회의 오늘과 내일

- 4** 다음과 같이 민주적인 방법으로 도롱뇽 문제를 해결하면 좋은 점은 무엇인지 쓰시오.



-
-

5 다음 사진을 보고, 물음에 답하십시오.

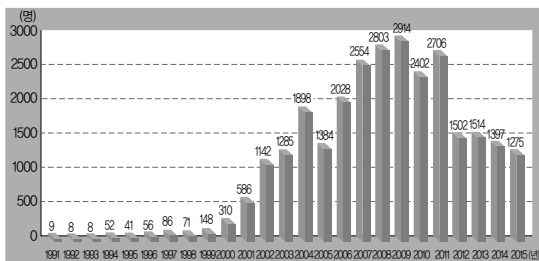


(1) 위 사건들을 일어난 순서대로 기호를 나열하십시오.

(→ →)

(2) 위 사건들을 통해 알 수 있는 점은 무엇인지 쓰시오.

6 다음 그래프와 같이 1990년대 중반 이후 북한 이탈 주민의 수가 늘어난 주된 이유는 무엇인지 쓰시오.



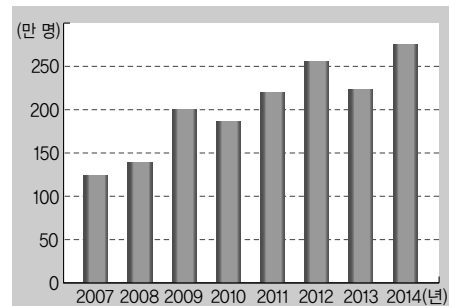
▲ 남한에 들어온 북한 이탈 주민의 수

4-③ 새로운 매체와 문화 발전

7 다음 대화를 읽고, 하준이의 주장을 뒷받침할 수 있는 사례를 두 가지 이상 쓰시오.



8 다음 그래프와 같이 우리나라의 문화재를 관람하는 외국인이 늘어나고 있는 까닭은 무엇인지 쓰시오.



▲ 우리나라 문화재를 관람한 외국인 수

중간 학력평가

1 살기 좋은 우리 국토 ~
2 환경과 조화를 이루는 국토

1 우리나라의 위치에 대한 설명으로 바른 것은 어느 것입니까? ()

- ① 일본의 남쪽에 위치한다.
- ② 북쪽은 바다와 연결되어 있다.
- ③ 아시아 대륙의 서쪽에 위치한다.
- ④ 주변에 중국, 일본, 러시아 등이 있다.
- ⑤ 다른 나라로 둘러싸여 있어서 바다를 직접 접하고 있지 않다.

2 다음 ㉠, ㉡에 들어갈 알맞은 말을 쓰시오.

(㉠)을/를 이용하여 우리나라의 위치를 살펴보면 북위 33°에서 43° 사이에 위치하고 있고, (㉡)을/를 이용하여 우리나라의 위치를 살펴보면 동경 124°에서 132° 사이에 위치하고 있습니다.

㉠: (), ㉡: ()

3 다음은 우리 국토의 영역에 대해 사회 시간에 필기한 내용입니다. 바르지 않은 부분을 찾아 기호를 쓰시오.

제목: 우리 국토의 영역

1. 영역의 의미: ㉠ 한 나라의 힘이 미치는 범위
2. 우리나라의 영토 끝: ㉡ 북쪽 끝은 유원진, 남쪽 끝은 마라도, 서쪽 끝은 마안도(비단섬), 동쪽 끝은 독도 동도입니다.
3. 우리나라의 영해
 - 서해안·남해안: ㉢ 가장 바깥에 위치한 섬들을 이어서 기선으로부터 12해리까지
 - 동해안: ㉣ 밀물일 때의 해안선으로부터 12해리까지
4. 영공: ㉤ 영토와 영해의 위쪽 하늘

()

4 다음 사진과 같은 땅의 모양을 무엇이라고 합니까? ()



▲ 지리산



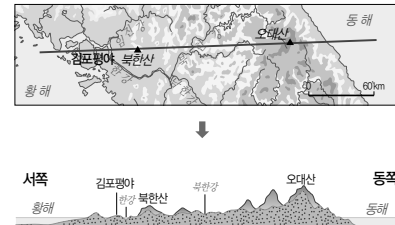
▲ 금강



▲ 김포평야

- ① 지형 ② 기후 ③ 영공
- ④ 영해 ⑤ 기온

5 다음 우리나라의 지형 단면도를 통해 알 수 있는 우리나라 지형의 특징을 쓰시오.



6 우리나라의 기후에 대한 설명으로 바른 것을 두 가지 고르시오. (,)

- ① 기온의 남북 차이가 크다.
- ② 남쪽에서 북쪽으로 갈수록 강수량이 많아진다.
- ③ 연평균 강수량의 절반 이상이 여름에 집중된다.
- ④ 연평균 강수량은 세계 평균에 비하면 비교적 적은 편이다.
- ⑤ 비슷한 위도의 서해안 지역이 동해안 지역보다 겨울에 따뜻하다.

7 겨울에 눈이 많이 내려 오른쪽 사진과 같은 우데기를 설치한 지역은 어디인지 쓰시오.



()

- 8 다음 보기에서 도시로의 인구 집중 문제를 해결하는 방법으로 바른 것을 모두 골라 기호를 쓰시오.

보기

- ㉠ 교통 시설을 확충합니다.
 ㉡ 대도시 지역에 공장을 더 많이 짓습니다.
 ㉢ 대도시의 주민들을 촌락 지역으로 강제로 이주시킵니다.
 ㉣ 전 국토의 균형적인 발전을 통하여 인구를 분산하려고 노력합니다.

()

- 9 오른쪽 인구분포도에서 인구가 가장 많은 지역은 어디입니까?

()

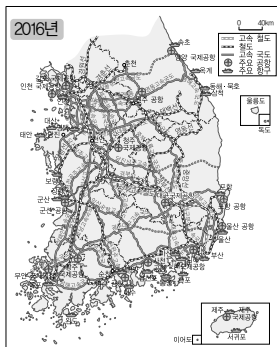
- ① 경기도
 ② 강원도
 ③ 전라남도
 ④ 부산광역시
 ⑤ 제주특별자치도



- 10 오른쪽 지도에 대한 설명으로 바르지 않은 것은 어느 것입니까?

()

- ① 도로, 철도, 공항 등을 나타낸 지도이다.
 ② 어느 지역이든 쉽고 빠르게 이동할 수 있다.
 ③ 우리나라에 발달된 교통을 한눈에 볼 수 있다.
 ④ 사람들이 느끼는 국토의 크기가 상대적으로 작아졌다.
 ⑤ 시장에 가지 않아도 인터넷으로 물건을 살 수 있게 되었다.



- 11 다음 두 지역 환경의 공통점을 쓰시오.



▲ 도시



▲ 촌락

- 12 다음 빈칸에 공통으로 들어갈 알맞은 말을 쓰시오.

지 은: 콜록콜록. 엄마, 목이 너무 따끔거려요. 눈도 아프고요.
 어머니: () 때문인 것 같구나.
 지 은: ()이/가 뭔가요?
 어머니: 중국이나 몽골 등에 위치한 사막과 황토 지대의 작은 모래나 흙, 먼지가 바람을 타고 하늘 높이 올라가 멀리까지 이동하는 현상이란다.


()

- 13 환경의 특성에 대하여 바르게 말한 어린이는 누구입니까? ()


- ① 정우: 환경이 영향을 미치는 범위는 매우 좁아.
 ② 도현: 사람들은 모두 똑같은 환경에서 생활해.
 ③ 정민: 환경은 인간에게 많은 영향을 주지는 않아.
 ④ 은종: 자연환경은 한번 오염되면 되돌리기 힘들어.
 ⑤ 수안: 환경의 작은 변화가 큰 결과를 일으키지는 않아.

14 다음과 같은 주제로 발표 학습을 할 때 제시할 수 있는 자료는 무엇입니까? ()

과학 기술이 발달하면서 인간이 환경을 적극적으로 개발할 수 있게 되었습니다.



15 사람들이 편리한 생활을 할 수 있도록 국가에서 다음 사진과 같은 시설을 만드는 사업을 무엇이라고 하는지 쓰시오.



▲ 공항 건설

▲ 다리 건설

16 다음 밑줄 친 부분에 들어갈 내용으로 바른 것은 어느 것입니까? ()

다양한 동식물이 어우러져 사는 습지가 무분별한 개발로 훼손되자, 정부가 나서서 이 지역을 환경 보전 지역으로 지정하려 하였습니다. 하지만 지역 주민들이 _____ 이를 반대하고 나섰습니다.

- ① 고기잡이가 쉬워질까봐
- ② 지역 개발이 중단될까봐
- ③ 논과 산업 단지를 만들까봐
- ④ 야생 동물들이 사라질까봐
- ⑤ 지역의 인구수가 늘어날까봐

17 친환경적 태도를 점검해 보는 질문으로 바른 것을 모두 찾아 ○표 하시오.

- (1) 음식을 남김없이 먹고 있습니까? ()
- (2) 쓰레기를 함부로 버리지 않습니까? ()
- (3) 재활용품의 사용을 줄이려고 노력하고 있습니까? ()

18 다음 보기에서 자원에 대한 설명으로 바른 것을 모두 골라 기호를 쓰시오.

보기

- ㉠ 지구 상의 모든 자원들은 무한합니다.
- ㉡ 모든 나라가 자원을 고르게 사용합니다.
- ㉢ 지구 상의 자원들은 곧 바닥날 위기에 처해 있습니다.
- ㉣ 세계 인구가 증가하면서 자원의 소비량이 크게 늘어났습니다.

()

19 다음 내용에서 알 수 있는 지속 가능한 발전을 위해 필요한 점은 무엇인지 쓰시오.

프라이부르크 시에서는 자전거 도로와 보행자 도로를 넓히는 등 환경 문제에 대한 종합 대책을 세웠고, 시민들도 자가용 이용을 줄이고 대중교통이나 자전거를 이용하는 등 친환경 도시를 만들려고 적극 협조하였습니다.

20 태양열 조리기의 장점이 아닌 것은 어느 것입니까? ()

- ① 오염 물질이 없다.
- ② 쉽게 사용할 수 있다.
- ③ 설치 비용이 저렴하다.
- ④ 물이 있어야 사용할 수 있다.
- ⑤ 나무와 같은 연료가 필요 없다.

기말 학력평가

3 우리 경제의 성장과 발전 ~
4 우리 사회의 과제와 문화의 발전

1 다음에서 설명하는 것은 무엇인지 쓰시오.

사람들에게 필요한 것을 생산하고 소비하는 것과 관련된 모든 활동입니다.

()

2 다음 사진의 모습을 통해 알 수 있는 우리 경제의 특징으로 알맞은 것은 어느 것입니까?

()



▲ 자유로운 직업 생활



▲ 소득의 자유로운 사용

- ① 다양한 경쟁
- ② 농수산물 경매
- ③ 경제 활동의 자유
- ④ 획일적인 직업 선택
- ⑤ 정부 주도의 경제 활동

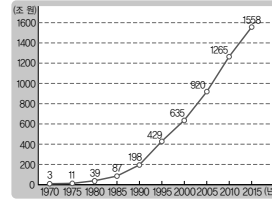
3 다음과 같은 기업 간의 경쟁이 우리 생활에 주는 도움을 한 가지만 쓰시오.

가격 경쟁, 품질 및 디자인 경쟁, 서비스 경쟁

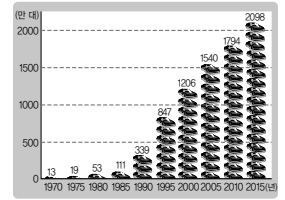
4 옛날과 달라진 오늘날의 생활 모습으로 바르지 않은 것은 어느 것입니까? ()

- ① 도로가 넓어졌다.
- ② 자동차 수가 증가하였다.
- ③ 기계를 이용하여 농사를 짓는다.
- ④ 가축이나 사람의 힘으로 농사를 짓는다.
- ⑤ 단독 주택, 연립 주택, 아파트가 많아졌다.

5 다음 그래프를 통해 알 수 있는 점은 무엇입니까? ()



▲ 국내 총생산



▲ 자동차 등록 대수

- ① 많은 회사가 문을 닫게 되었다.
- ② 우리나라의 경제가 위기를 겪고 있다.
- ③ 경제가 성장하면서 생활이 편리해졌다.
- ④ 자동차 수의 감소로 교통 체증이 줄어들고 있다.
- ⑤ 국내 총생산이 감소하면 자동차 수는 증가할 것이다.

6 우리나라에 다음과 같은 산업이 발달한 시기는 언제입니까? ()



▲ 석유 산업



▲ 시멘트 산업

- ① 1950년대 ② 1960년대 ③ 1970년대
- ④ 1980년대 ⑤ 2000년대 이후

7 조선 산업의 발전을 위하여 근로자가 노력하는 일로 바른 것은 어느 것입니까? ()



▲ 외국 회사와 계약 맺기



▲ 기계 다루기



▲ 항구 정비하기



▲ 기술 개발을 위하여 투자하기

8 '우리 경제의 성장을 위한 정부의 노력'을 주제로 모둠 활동을 하려고 할 때 조사 내용으로 바르지 않은 것은 어느 것입니까? ()

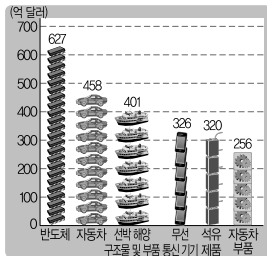
- ① 1모둠: 정부 고속 국도의 건설
- ② 2모둠: 광양항 컨테이너 부두 건설
- ③ 3모둠: 제철 산업 육성을 위한 제철소 건설
- ④ 4모둠: 새로운 제품을 만들기 위한 기술 개발 연구
- ⑤ 5모둠: 우리나라 기업의 제품 홍보를 위한 무역 박람회 개최

9 다음에서 설명하는 것은 무엇인지 쓰시오.

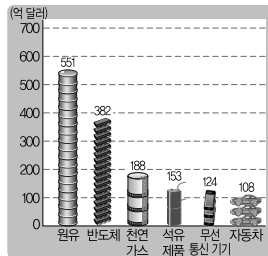
나라 간에 서로 필요한 것을 사고파는 활동을 말합니다.

()

10 다음 그래프를 통해 알 수 있는 우리나라 무역의 특징은 무엇인지 쓰시오.



▲ 2015년 주요 수출품

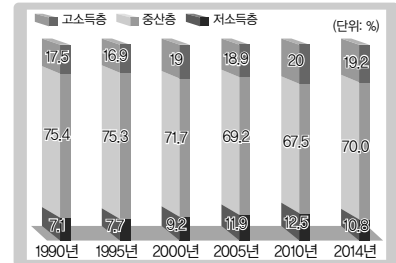


▲ 2015년 주요 수입품

11 경제 성장 과정에서 나타난 문제점이 아닌 것은 어느 것입니까? ()

- ① 빈부 격차
- ② 노사 갈등
- ③ 자원 고갈
- ④ 환경 문제
- ⑤ 문화의 이질화

12 다음 그래프를 통해 알 수 있는 점은 무엇입니까? ()



▲ 소득에 따른 계층 비율 변화

- ① 빈부 격차가 줄어들고 있다.
- ② 경제 성장이 느려지고 있다.
- ③ 중산층 비율이 줄어드는 추세이다.
- ④ 저소득층 비율이 크게 줄어들고 있다.
- ⑤ 고소득층 비율이 중산층 비율보다 높다.

13 노사 갈등을 해결하기 위한 노력으로 바른 것은 어느 것입니까? ()

- ① 에너지 절약하기
- ② 지구촌 불 끄기 행사 개최하기
- ③ 저소득층에게 일자리 지원하기
- ④ 근로자와 기업가 간에 대화하기
- ⑤ 대중교통 이용을 권장하는 캠페인 벌이기

14 다음 문제를 해결하기 위한 방안을 잘못 제시한 어린이는 누구입니까? ()

학급 회장: 누리산의 계곡물이 오염되어 도롱뇽이 점점 사라지고 있습니다. 이 문제를 해결하기 위한 방안에는 무엇이 있을까요?

- ① 서연: 환경 보호 캠페인을 벌여야 해.
- ② 수민: 계곡 주변에 쓰레기통을 설치해야 해.
- ③ 진수: 누리산 주변에 환경 감시원을 배치해야 해.
- ④ 도윤: 도롱뇽을 우리 지역의 동물로 선정해야 해.
- ⑤ 정은: 다른 지역의 도롱뇽을 잡아다가 누리산에 풀어놓아야 해.

15 다음 사건들의 공통점을 보기에서 모두 골라 기호를 쓰시오.



▲ 4.19 혁명



▲ 5.18 민주화 운동



▲ 6월 민주 항쟁

보기

- ㉠ 국민들이 직접 대통령을 선출하였습니다.
- ㉡ 우리나라는 빠른 시간에 경제 성장을 이루었습니다.
- ㉢ 우리나라의 민주주의 발전에 큰 밑거름이 되었습니다.
- ㉣ 공동체의 문제를 해결하는 과정에서 국민들이 적극적으로 참여하였습니다.

()

16 공동체의 문제를 해결하는 데 참여하는 방법으로 바르지 않은 것은 어느 것입니까? ()

- ① 설문 조사에 참여한다.
- ② 투표로 의견을 제시한다.
- ③ 1인 시위로 개인의 의견을 표현한다.
- ④ 좋아하는 스포츠 동호회에 가입한다.
- ⑤ 텔레비전이나 신문 등의 언론을 통하여 자신의 의견을 전달한다.

17 남한의 표준어와 북한의 문화어의 뜻이 같은 것끼리 바르게 짝 지어진 것은 어느 것입니까? ()


- ① 빙수 - 팍밥 ② 도넛 - 가락지빵
- ③ 화장실 - 손기척 ④ 주차장 - 위생실
- ⑤ 도시락 - 얼력밥

18 오른쪽 그림에 나타난 새로운 매체의 부정적인 면은 무엇입니까? ()



- ① 운동 부족
- ② 저작권 침해
- ③ 사이버 따돌림
- ④ 스마트폰 중독
- ⑤ 개인 정보 유출

19 다음 사진에 나타난 것들의 공통점은 무엇인지 쓰시오.



▲ 김치



▲ 탈놀이

20 전통문화 콘텐츠를 만드는 과정에서 다음 그림에 해당하는 과정은 무엇입니까? ()



- ① 공유하기
- ② 편집하기
- ③ 시나리오 만들기
- ④ 촬영 및 제작하기
- ⑤ 전통문화 선정하기

기말 학력평가


1 살기 좋은 우리 국토 ~

4 우리 사회의 과제와 문화의 발전

1 우리 국토의 모습으로 바르지 않은 것은 어느 것입니까? ()

- ① 남북의 길이가 길다.
- ② 동서의 길이가 짧다.
- ③ 서쪽과 남쪽에 섬이 많다.
- ④ 육지가 바다 쪽으로 나와 있다.
- ⑤ 우리 국토의 가운데 허리 부분이 튀어 나와 있다.

2 다음 자료의 제목으로 가장 알맞은 것은 어느 것입니까? ()



- ① 국토의 의미 ② 우리나라의 위치
- ③ 우리 국토의 영역 ④ 지역별 인구 분포
- ⑤ 교통의 발달 과정

3 다음 편지 내용으로 볼 때 찬열이가 여행을 다녀온 지역은 어디입니까? ()

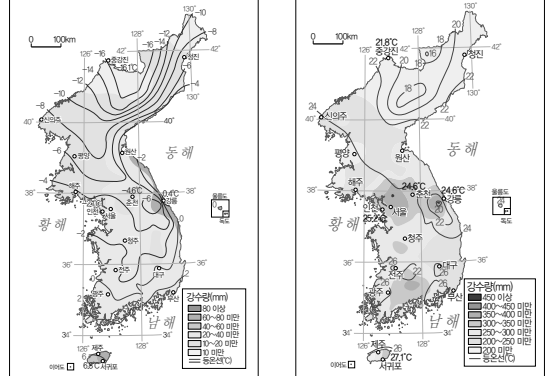
백현아 안녕?

방학 동안 잘 지내고 있지? 나는 지난 주말에 가족과 함께 3박 4일로 여행을 다녀왔어. 그곳은 섬 전체가 '화산 박물관'이라고 할 만큼 다양하고 독특한 화산 지형을 볼 수 있어. 용암 동굴인 만장굴과 용머리를 닮았다고 해서 붙여진 용머리 해안도 봤어. 무엇보다 가장 좋았던 것은 성산 일출봉에서 해가 뜨는 모습을 본 거야. 너는 방학 동안 무엇을 했니? 궁금하구나.

너의 친구 찬열이가

- ① 독도 ② 울릉도 ③ 제주도
- ④ 백령도 ⑤ 강화도

4 다음 기후도에 대한 설명으로 바르지 않은 것은 어느 것입니까? ()



▲ 1월의 평균 기온과 강수량

▲ 8월의 평균 기온과 강수량

- ① 기온은 8월이 1월보다 더 낮다.
- ② 1월에는 남쪽이 북쪽보다 춥다.
- ③ 8월에는 북쪽이 남쪽보다 덥다.
- ④ 강수량은 8월이 1월보다 더 많다.
- ⑤ 비슷한 위도일 때 내륙 지역이 동해안 지역보다 겨울에 따뜻하다.

5 지역마다 인구 분포가 다른 까닭은 무엇인지 쓰시오.

6 환경의 특성에 대한 설명으로 바르지 않은 것은 어느 것입니까? ()

- ① 자연환경은 한번 오염되면 되돌리기 힘들다.
- ② 환경의 작은 변화가 큰 결과를 일으킬 수 있다.
- ③ 여러 환경 요소가 서로 밀접하게 관련되어 있다.
- ④ 환경 요소들이 서로 영향을 주고받는 범위가 매우 넓다.
- ⑤ 환경은 스스로 깨끗해지려는 특성이 있기 때문에 거의 오염되지 않는다.

7 다음 빈칸에 들어갈 알맞은 말을 쓰시오.

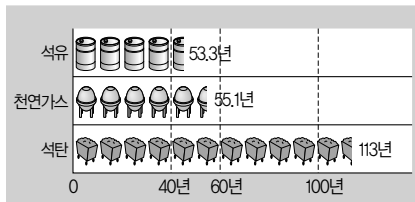
인간과 환경이 어느 한쪽의 일방적인 영향만으로 바람직한 관계를 형성할 수는 없습니다. 인간과 환경이 서로 영향을 주고받으며 ()을/를 유지하는 것이 무엇보다 중요합니다.

()

8 국토 개발 사업이 필요한 까닭으로 바르지 않은 것은 어느 것입니까? ()

- ① 국토를 효율적으로 활용하기 위해
- ② 자연환경을 있는 그대로 보존하기 위해
- ③ 한정된 자원을 합리적으로 개발하기 위해
- ④ 사람들이 풍요롭고 편리하게 생활하기 위해
- ⑤ 우리나라는 인구에 비하여 국토 면적이 좁고 산이 많기 때문에

9 다음 그래프를 보고, 가장 먼저 고갈될 것으로 예상되는 자원은 무엇인지 쓰시오.



▲ 세계 천연자원의 사용 가능한 기간(2013년)

()

10 다음 사진과 같은 신재생 에너지의 공통점은 무엇인지 쓰시오.



▲ 태양광 발전



▲ 풍력 발전



▲ 조력 발전

11 다음 선생님의 질문에 대하여 잘못 대답한 어린이는 누구입니까? ()

선생님: 기업 간의 자유로운 경쟁이 소비자들에게 주는 도움은 무엇일까요?

- ① 지현: 소비자들은 싼값에 물건을 살 수 있어요.
- ② 상윤: 소비자들은 더 좋은 서비스를 받을 수 있어요.
- ③ 세영: 소비자들이 직접 생산 활동에 참여할 수 있어요.
- ④ 양규: 소비자들은 제품에 대한 정보를 쉽게 얻을 수 있어요.
- ⑤ 아정: 소비자들은 품질과 디자인이 좋은 제품을 살 수 있어요.

12 더 나은 경제 활동을 위해 다음과 같은 활동을 하는 주체는 무엇입니까? ()

- 시장에서 공정한 거래가 이루어질 수 있도록 여러 가지 법과 기준을 마련합니다.
- 경제 활동 능력이 부족한 사람들에게 의료 시설을 무료로 이용하게 하거나 생활비를 보조해 줍니다.

- ① 기업 ② 정부 ③ 근로자
- ④ 소비자 ⑤ 시민 단체

13 다음을 우리나라의 산업 발달 과정에 맞게 순서대로 기호를 나열하시오.

- ㉠ 섬유 산업의 발달
- ㉡ 서비스업, 첨단 산업의 발달
- ㉢ 자동차·정밀 기계 산업의 발달
- ㉣ 농업, 어업, 임업 중심 산업 발달
- ㉤ 석유 화학·조선·전자·제철 산업의 발달

(→ → → →)

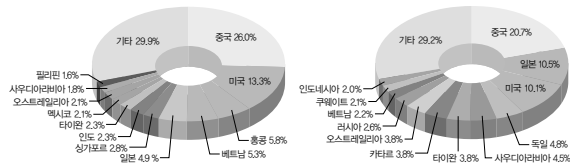


14 우리 경제의 성장을 위하여 ㉠~㉢과 같이 노력한 주체를 각각 쓰시오.

- ㉠ 산업 현장에서 주어진 일에 최선을 다하였습니다.
 ㉡ 공장이나 회사를 세워 다양한 산업을 발전시켰습니다.
 ㉢ 수출을 늘리기 위하여 다른 나라와 관계를 맺고 있습니다.

㉠: (), ㉡: (), ㉢: ()

15 다음은 우리나라의 국가별 무역액 비율을 나타낸 그래프입니다. 이를 통해 알 수 있는 점은 무엇입니까? ()



▲ 2015년 국가별 수출액 비율 ▲ 2015년 국가별 수입액 비율

- ① 중국과의 무역 거래가 적다.
 ② 러시아와 가장 많이 무역을 한다.
 ③ 국가별 수출액과 수입액 비율이 같다.
 ④ 원유, 천연가스, 석탄 등을 주로 수출한다.
 ⑤ 전체 무역액에서 몇 나라가 차지하는 비율이 높다.

16 다음 그림은 경제 성장 과정에서 나타난 어떤 문제점을 해결하기 위한 방안입니까? ()



▲ 저소득층의 일자리 지원

- ① 빈부 격차
 ③ 노사 갈등
 ⑤ 세대 간 갈등



▲ 저소득층의 생계비 지원

- ② 자원 고갈
 ④ 환경 문제

17 다음 보기에서 공동체의 문제를 해결하는 과정에서 가장 나중에 하는 일을 골라 기호를 쓰시오.

보기

- ㉠ 공동체의 문제 발생
 ㉡ 절차를 준수하여 실천하기
 ㉢ 대화와 타협으로 해결 방법 찾기

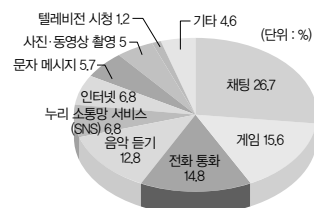
()

18 오른쪽 사진과 같이 공동체의 문제 해결에 참여하는 방법은 무엇입니까? ()



- ① 투표하기 ② 시위하기
 ③ 정당에 가입하기 ④ 인터넷에 의견 올리기
 ⑤ 언론을 통해 의견 제시하기

19 다음 그래프를 보고, 청소년들이 스마트폰으로 가장 많이 하는 일은 무엇인지 쓰시오.



▲ 청소년들이 스마트폰으로 주로 하는 일

()

20 외국인들이 다음 사진과 같은 일들을 하는 까닭을 쓰시오.



▲ 사찰에서 하는 정신 수련 체험



▲ 국악 체험



꼭지 시험

1 살기 좋은 우리 국토

1 소중한 우리 국토

2쪽

- 1 국토 2 나와 3 동 4 본초 자오선
5 ㉠ 북위 ㉡ 동경 6 (국토의) 영역
7 영토 8 12 9 독도
10 비무장 지대(DMZ)

2 아름다운 우리 국토

3쪽

- 1 지형 2 산지 3 동고서저
4 ㉠ 남해안 ㉡ 동해안 5 제주도 6 ○
7 ㉠ 태백산맥 ㉡ 동해 8 시베리아
9 ㉠ 북쪽 ㉡ 남쪽 10 우데기

3 변화하는 우리 국토

4쪽

- 1 인구 2 도시 3 인구 분포 4 평야
5 수도권 6 인구 집중 7 ○ 8 생활권
9 교통도 10 재택근무

2 환경과 조화를 이루는 국토

1 우리를 둘러싼 환경

5쪽

- 1 환경 2 자연환경 3 방파제 4 황사
5 넓다 6 태화강 7 대청 8 댐
9 과학 기술 10 균형

2 인간과 환경의 조화로운 삶

6쪽

- 1 댐 2 국가 3 국토 개발 사업
4 자연환경 5 반대 6 정부 7 친환경
8 생태 통로 9 분류 배출 10 일회용품

3 모두를 위한 지속 가능한 발전

7쪽

- 1 고갈 2 한정 3 많이
4 지속 가능한 5 협력 6 신효천
7 프라이부르크 시 8 자연 9 태양광
10 태양열 조리기(쉐플러 조리기)

3 우리 경제의 성장과 발전

1 우리 경제의 특징

8쪽

- 1 경제 활동 2 개인 3 직업 4 소득
5 경제 활동의 자유 6 경쟁 7 이윤
8 낮춥니다 9 소비자 10 정부

2 우리 경제의 성장 과정

9쪽

- 1 아파트 2 늘어났고 3 컴퓨터 4 서비스
5 1인당 국민 총소득 6 소득 7 평균 수명
8 외환 위기 9 경공업 10 첨단 기술

3 우리 경제의 성장을 위하여 노력한 사람들

10쪽

- 1 배 2 조선소 3 정부 4 기술
5 외화 6 회사 7 일자리
8 고속 국도, 제철소, 부두 등 9 수출
10 경부 고속 국도

4 세계 속의 우리 경제

11쪽

- 1 다릅니다 2 무역 3 자본 4 경쟁
5 2015년 6 원유 7 원료 8 높아서
9 친환경 10 국제 경쟁력

4 우리 사회의 과제와 문화의 발전

1 경제 성장의 그림자

12쪽

- 1 경제 성장 2 빈부 격차 3 중산층 4 자원 고갈
5 26 6 노사 갈등 7 바우처(복지 이용권) 제도
8 지구촌 불 끄기 9 환경 10 정부

2 우리 사회의 오늘과 내일

13쪽

- 1 청원 2 공청회 3 대화 4 4.19 혁명
5 정당 6 투표 7 이산가족
8 북한 이탈 주민 9 광복 10 편견

3 새로운 매체와 문화 발전

14쪽

- 1 스마트폰 2 정보 3 긍정적 4 전통문화
5 국악 체험 6 전통문화 콘텐츠 산업 7 난타
8 문화재청 9 전통문화 선정하기 10 ×

유형 문제

1 살기 좋은 우리 국토

1 소중한 우리 국토

15쪽

- 1 ㉠, ㉡ 2 ㉠, ㉤ 3 ㉠ 4 ㉡

- 2 우리나라는 북위 33°에서 43° 사이, 동경 124°에서 132° 사이에 있습니다.

2 아름다운 우리 국토

16쪽

- 1 ㉢, ㉣ 2 ㉡, ㉣ 3 아정 4 ㉢

- 1 ㉠ 북쪽과 동쪽에 높고 험한 산이 많습니다. ㉡ 우리 국토는 약 70%가 산지로 이루어져 있습니다.

3 변화하는 우리 국토

17쪽

- 1 ㉠ 평야 ㉡ 산지 2 ㉡
3 고속 열차 4 ㉢, ㉣ 5 ㉢

- 4 교통과 통신의 발달로 인해 ㉠ 생활권이 넓어졌고, ㉡ 지역 간의 이동 시간이 줄어들었습니다.

2 환경과 조화를 이루는 국토

1 우리를 둘러싼 환경

18쪽

- 1 환경 2 ㉠ 3 ㉢ 4 ㉠, ㉢
5 ㉣

- 2 황사를 통해 환경이 영향을 미치는 범위가 매우 넓다는 것을 알 수 있습니다.

2 인간과 환경의 조화로운 삶

19쪽

- 1 ㉤ 2 ㉠ 3 ㉠, ㉢ 4 선영

- 2 국토 개발로 인해 자연환경이 파괴되는 문제점이 생깁니다.

- 4 인간과 환경이 조화를 이루는 친환경적인 국토 개발이 필요합니다.

3 모두를 위한 지속 가능한 발전

20쪽

- 1 ㉣ 2 지속 가능한 발전 3 ㉢
4 ㉣

- 2 지속 가능한 발전은 사람들이 한정된 자원을 공평하게 나누어 쓰면서, 우리의 후손들도 자원을 사용할 수 있도록 해야 하는 것을 말합니다.

3 우리 경제의 성장과 발전

1 우리 경제의 특징

21쪽

- 1 ㉢ 2 경쟁 3 ㉠ 4 ㉠, ㉣

- 2 경쟁은 자신이 원하는 바를 얻기 위해 서로 겨루는 것입니다.

- 4 기업 간의 경쟁은 소비자들에게 다양하고 질 좋은 물건을 싸게 살 수 있는 기회를 제공해 줍니다.

2 우리 경제의 성장 과정

22쪽

- 1 ㉣ 2 ㉣ 3 ㉢ 4 ㉤
5 서비스업

- 4 ㉠, ㉡는 1970년대, ㉣는 1980년대, ㉢은 2000년대 이후에 발달한 산업입니다.

3 우리 경제의 성장을 위하여 노력한 사람들

23쪽

- 1 ㉠ 2 ㉠, ㉢ 3 ㉠, ㉡ 4 ㉤

- 1 ㉠은 경제 성장을 위한 정부의 노력입니다.

- 2 ㉡ 1960년대에 광부와 간호사가 파견된 나라는 독일입니다.

4 세계 속의 우리 경제

24쪽

- 1 무역 2 ㉣ 3 ㉡ 4 ㉠
5 ㉡

- 4 ㉠ 값싼 외국 농산물이 많이 수입되면 우리 농산물의 판매가 줄어들어 농민들이 어려움을 겪게 될 것입니다.

4 우리 사회의 과제와 문화의 발전

1 경제 성장의 그림자

25쪽

- 1 ㉠, ㉡, ㉢ 2 ㉡ 3 ㉠, ㉤ 4 ㉣

- 3 빈부 격차를 해결하기 위해 저소득층을 위한 경제적 지원 활동을 하고, 일자리를 만들어 줍니다.

2 우리 사회의 오늘과 내일

26쪽

- 1 ㉠, ㉡, ㉢ 2 ㉠
3 북한 이탈 주민
4 식량 부족과 경제적 어려움

3 새로운 매체와 문화 발전

27쪽

- 1 ㉢, ㉣ 2 ㉣ 3 전통문화 4 ㉠, ㉣

- 4 전통문화 콘텐츠란 전통문화를 계승하고 발전시켜 새롭게 문화를 창조하거나 상품으로 만들어 낸 것입니다.

실전 서술형·논술형 문제

1 살기 좋은 우리 국토

28~29쪽

- 1 예 삼면이 바다로 둘러싸인 반도 국가이므로 대륙과 해양으로 진출하기에 유리하기 때문이다.
2 (1)영해 (2)예 동해안은 썰물일 때의 해안선을 기준으로 하고, 서해안·남해안은 가장 바깥에 위치한 섬들을 직선으로 그은 선을 기선으로 하여 영해를 정한다.
3 예 동쪽에는 높고 험한 산이 많기 때문이다.
4 예 우리나라는 남북으로 길어서 남쪽과 북쪽의 위도 차이가 크기 때문이다.
5 (1)겨울 (2)예 시베리아에서 차갑고 건조한 바람이 불어온다.
6 예 울릉도는 눈이 많이 내리기 때문에 눈이 집 안으로 들어오는 것을 막기 위해서 우데기를 설치하였다.
7 (1)남서쪽 (2)예 수도권과 대도시, 남동쪽의 공업 도시로 인구가 집중되어 있다.
8 예 전라북도 부안군은 농사를 짓는 평야가 많은 곳으로 인구가 적다.

2 환경과 조화를 이루는 국토

30~31쪽

- 1 예 도시에 비해 자연환경이 많다.
2 예 다양한 환경이 밀접하게 관련되어 서로 영향을 주고받고 있다.
3 (1)배산임수 (2)예 자연환경이 인간의 삶에 영향을 준다.
4 (1)댐 (2)예 사람들이 편리하게 생활하기 위해서이다. / 국토를 효율적으로 이용하기 위해서이다.
5 (1)예 자연환경과 이곳에 사는 생물들의 삶의 터전이 파괴될 것이다. (2)예 자연환경과 그 속에서 살아가는 생물들을 고려한 친환경적인 국토 개발이 이루어져야 한다.
6 예 자원을 아껴 쓴다. / 자원을 함부로 개발하지 않는다.
7 예 태양광 발전을 하여 태양광 에너지를 적극적으로 활용하고 있기 때문이다.
8 예 자신의 이익보다 남을 생각하고 배려하는 마음이 필요하다.

3 우리 경제의 성장과 발전

32~33쪽

- 1 예 사람들은 자신의 능력과 적성에 따라 자유롭게 직업을 선택할 수 있고, 자신이 벌어들인 소득을 자유롭게 소비할 수 있다.
2 (1)서비스 (2)예 소비자들은 싼 가격에 물건을 살 수 있다.
3 예 경제 성장으로 국민들의 영양 상태가 크게 개선되었고, 의료 기술이 발달하였기 때문이다.
4 (1)1960년대 (2)예 1960년대에는 노동력이 풍부하고 기술과 자본은 부족했기 때문이다.
5 예 항구를 정비하고, 조선 산업을 적극 지원하였다.
6 예 조선 산업과 자동차 산업의 발전에 좋은 영향을 미치고, 다른 산업에 비하여 수익이 높아 국가 산업 발전에 크게 기여할 수 있기 때문이다.
7 예 ○○ 나라는 옷, 자동차 등을 △△ 나라에서 수입하고, △△ 나라는 지하자원이나 열대 과일을 ○○ 나라에서 수입한다.

- 8 (1) 중국 (2) 예 전체 무역액에서 중국, 미국, 일본 등 몇 나라가 차지하는 비율이 높아서 이들 나라의 영향을 많이 받는다.

4 우리 사회의 과제와 문화의 발전 34~35 쪽

- 1 (1) 중산층 (2) 예 경제적으로 어려운 사람들은 점점 더 살기 어려워진다. / 소득이 높은 사람은 더 잘살고, 소득이 낮은 사람은 더 살기 어려워지므로 갈등이 생길 수 있다.
- 2 예 에너지를 절약하고 환경 오염을 줄이기 위해서이다.
- 3 예 사진 속 상황 설명하기, 사진 속 현상에 대한 원인과 결과 찾기 등의 학습을 할 수 있다.
- 4 예 자신에게 영향을 미치는 문제를 해결하는 데 직접 참여할 수 있다.
- 5 (1) (가) → (다) → (나) (2) 예 우리 국민들이 공동체의 문제를 해결하는 과정에 적극적으로 참여해 왔다. / 우리나라의 민주주의 발전에 큰 밑거름이 되었다.
- 6 예 북한에서 많은 사람이 식량 부족과 경제적 어려움을 겪었기 때문이다.
- 7 예 친구를 놀리고 괴롭히는 문자 메시지를 보내거나 글을 올린다. / 다른 사람의 정보나 프로그램을 불법으로 내려받는다. / 스마트폰에 중독된다.
- 8 예 우리나라의 문화재가 다른 나라 사람들에게 인정받고 있기 때문이다.

중간·기말 학력평가

중간 학력평가 36~38 쪽

- 1 ④ 2 ㉠ 위도 ㉡ 경도 3 ㉢
- 4 ① 5 예 동쪽은 높고 서쪽은 낮은 지형이다.
- 6 ①, ③ 7 울릉도 8 ㉠, ㉢ 9 ①
- 10 ⑤
- 11 예 자연환경과 인간이 만든 환경이 모두 있다.
- 12 황사 13 ④ 14 ①
- 15 국토 개발 사업 16 ②
- 17 (1) ○ (2) ○ 18 ㉢, ㉣
- 19 예 지속 가능한 발전을 실천하기 위해서는 정부와 시민들이 함께 노력해야 한다. 20 ④

- 12 황사란 중국이나 몽골 등에 위치한 사막과 황토 지대의 작은 모래나 흙, 먼지가 바람을 타고 하늘 높이 올라가 멀리까지 이동하는 현상입니다.

- 17 (3) 환경 보호를 위해 일회용품의 사용을 줄이고 재활용품을 사용해야 합니다.

기말 학력평가 중간 이후 범위 39~41 쪽

- 1 경제 활동 2 ③
- 3 예 소비자들은 좋은 서비스를 받을 수 있다. / 소비자들은 품질과 디자인이 좋은 제품을 싼 가격에 살 수 있다.
- 4 ④ 5 ③ 6 ② 7 ②
- 8 ④ 9 무역
- 10 예 자원이나 원료를 수입하고, 그것을 가공하여 제품을 만들어 외국에 수출한다.
- 11 ⑤ 12 ③ 13 ④ 14 ⑤
- 15 ㉢, ㉣ 16 ④ 17 ② 18 ③
- 19 예 세계적으로 인정받는 우리의 전통문화이다.
- 20 ②

- 7 ①, ④는 기업가, ③은 정부의 노력입니다.

- 11 ⑤는 분단으로 남한과 북한이 겪는 문제입니다.

기말 학력평가 전 범위 42~44 쪽

- 1 ⑤ 2 ③ 3 ③ 4 ④
- 5 예 지역마다 지형, 교통의 발달 정도, 산업의 발달 정도가 다르기 때문이다.
- 6 ⑤ 7 균형 8 ② 9 석유
- 10 예 자원 고갈의 위험이 없다. / 지속 가능한 발전을 가능하게 해 준다.
- 11 ③ 12 ②
- 13 ㉢ → ㉠ → ㉡ → ㉣ → ㉤
- 14 ㉠ 근로자 ㉡ 기업가 ㉢ 정부 15 ⑤
- 16 ① 17 ㉤ 18 ② 19 채팅
- 20 예 우리나라의 전통문화를 배우기 위해서이다. / 우리의 우수한 전통문화에 대한 관심이 늘어났기 때문이다.

- 8 한정된 자원을 합리적이고 균형 있게 개발하여 사람들이 풍요롭고 편리한 생활을 할 수 있도록 하기 위해 국토 개발 사업을 실시합니다.